

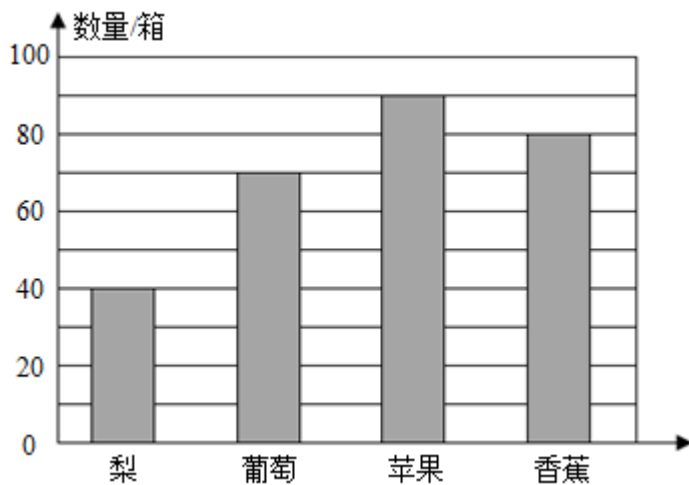
四年级上册数学分层训练 A 卷

第七单元条形统计图

(满分：100 分，完成时间：60 分钟)

一、选择题 (满分 10 分)

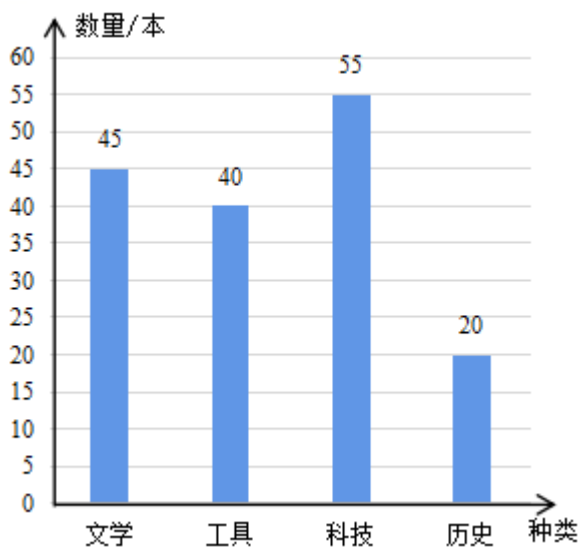
1. 下图是水果批发店每天运进的水果数量统计图。根据图中信息，下面的说法错误的是 ()。



A. 这张统计图中的每小格代表 20 箱 B. 运进苹果的箱数最多，运进梨的箱数最少

C. 运进葡萄的箱数比苹果少 20 箱 D. 运进香蕉的箱数是梨的 2 倍

2. 下图是新华书店某一天四类图书销售情况统计图。已知工具类图书单价在 21 ~ 39 元之间，那么当天工具类图书销售总价可能是 ()。

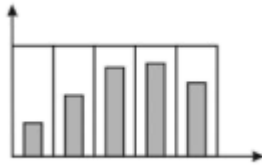


- A . 700 元 B . 1400 元 C . 1600 元 D . 1800 元

3 . 在一个条形统计图中，用 4 厘米长的直条表示 60 人，用 () 厘米长的直条表示 165 人。

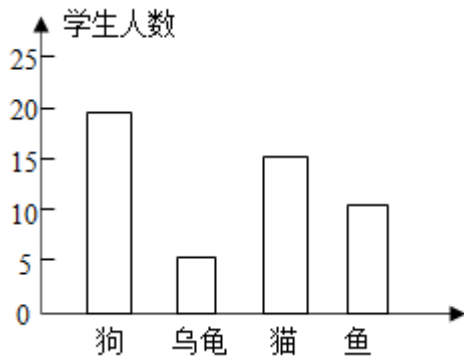
- A . 2 B . 4 C . 8 D . 11

4 . 如图，条形统计图最可能统计的是 () 。



- A . 今年 5 月 - 9 月，超市卖出的雪糕箱数 B . 今年 8 月 - 12 月，超市卖出的雪糕箱数
C . 今年 5 月 - 9 月，服装店羽绒服卖出的数量 D . 今年 5 月 - 9 月，超市卖出保温杯的个数

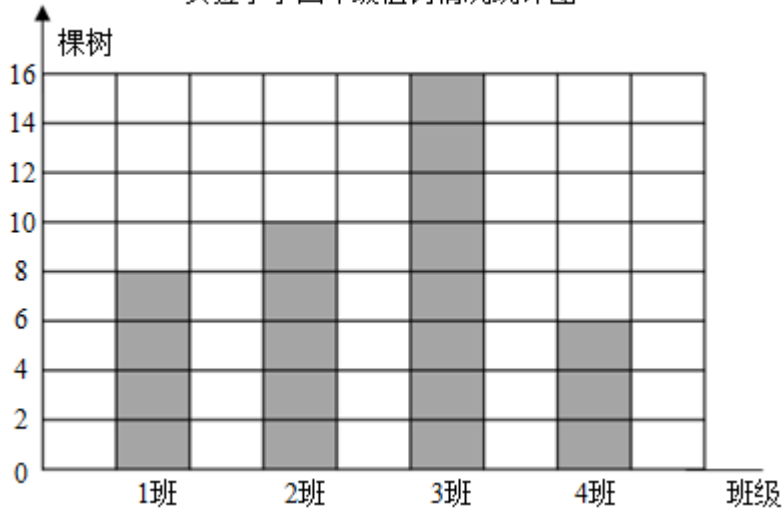
5 . 笑笑在班级里进行了一项调查，并把调查结果制成如图所示的统计图。笑笑可能进行的调查内容是 () 。



- A . 你最喜欢什么宠物 B . 你有几只宠物 C . 你的宠物几岁了

二、填空题 (满分 23 分)

实验小学四年级植树情况统计图

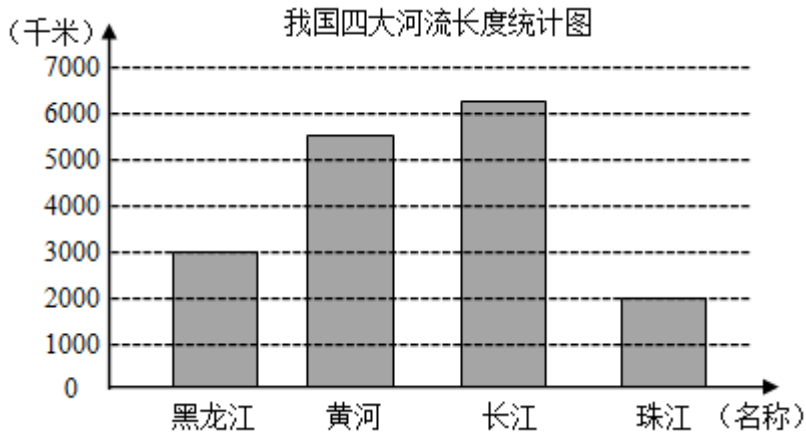


6. (6分)

- (1) 统计图中 1 小格代表()棵树。
- (2) 四年级()班的同学植树最多, 是()棵; ()班的同学植树最少, 是()棵。
- (3) 四年级同学共植树()棵。

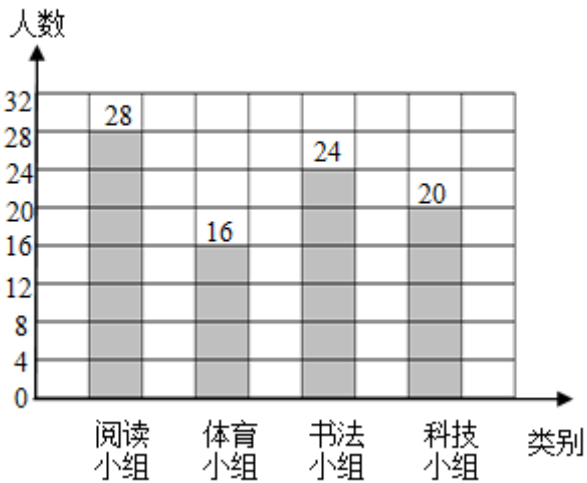
7. (1分) 统计图在生活中有着广泛的应用, 条形统计图和统计表相比较, 它的特点是()。

8. 从图中分析: (), 我们的母亲河, 中国的第二长河, 是中华民族成长的摇篮, 她大约长()千米。



9. (5分) 根据下边的统计图回答问题。

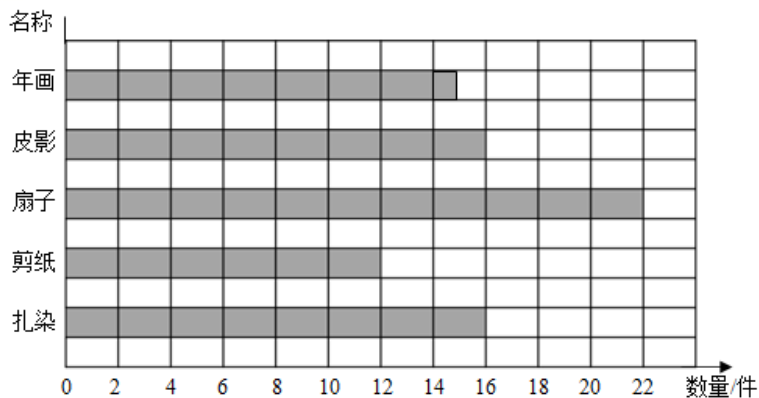
四年级同学参加兴趣小组的人数情况统计图



- (1) 图中每小格代表()人。
- (2) 参加()小组的人数最多, 参加()小组的人数最少。
- (3) 参加书法小组的人数比参加体育小组的人数多()人, 比参加阅读小组的人数少()人。

10. (1分) 条形图中, 用2厘米长的直条表示10人, 用()厘米的直条表示30人。

11. (8分) 同学们在“弘扬中国传统文化, 为养老院老人献爱心”活动中, 制作了各种手工艺品, 具体情况如下:



(1) 根据统计图, 将统计表填完整。

名称	年画	皮影	扇子	剪纸	扎染	合计
数量/件	15	()	()	()	()	()

(2) 制作的于工艺品中, 数量最多的是(), 最少的是()。

(3) 养老院共有 120 位老人，同学们想送每位老人一件手工艺品，至少需要再做() 件。

三、判断题 (满分 6 分)

12. 条形统计图可以画成竖条，也可以画成横条。()

13. 某服装厂要统计上半年各月生产童装情况，选用条形统计图更好比较。()

14. 数据的整理可以用画“正”字的方法。()

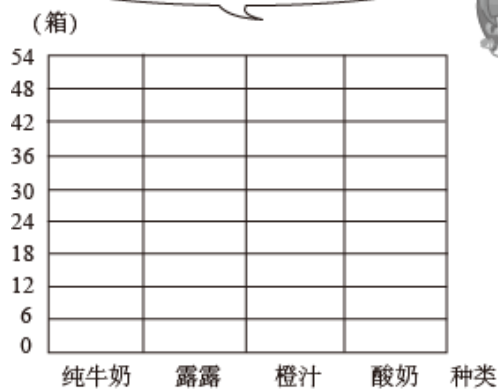
四、作图题 (满分 6 分)

15. (6 分) 下表是米老鼠百货批发店一天的销售情况。

米老鼠百货批发店一天的销售情况统计表

种类	纯牛奶	露露	橙汁	酸奶
数量 (箱)	35	20	30	27

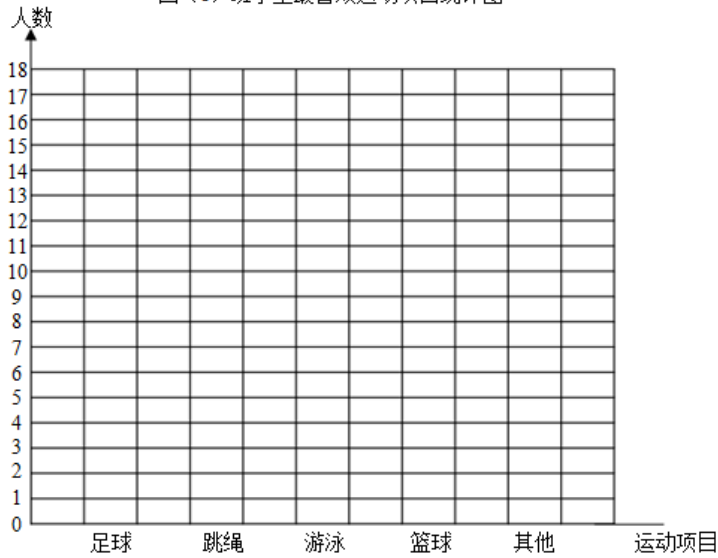
你能根据统计表制成条形统计图吗?



五、解答题 (满分 55 分)

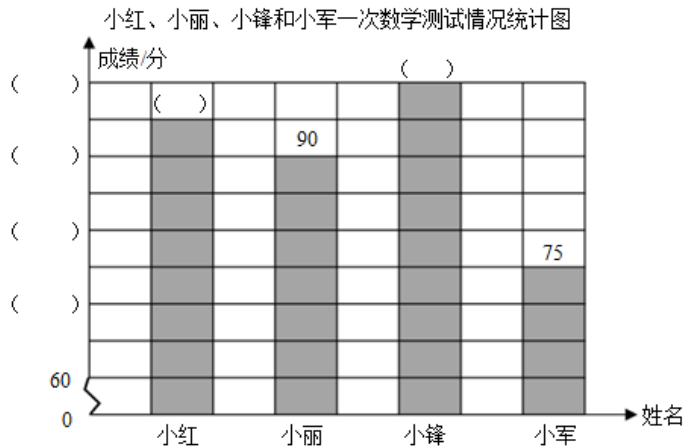
16. (11 分) 调查本班每一位同学最喜欢哪种运动项目。

四（1）班学生最喜欢运动项目统计图



- (1) 每一格代表 () 人。
 (2) 最喜欢 () 的人数最多，最喜欢 () 的人数最少。

17. (11分) 下面是小红、小丽、小锋和小军一次数学测试情况统计图。




- ①把条形统计图补充完整。
 ②图中每个纵轴小格代表 () 分。
 ③这次数学测试成绩最好的是 ()，得了 () 分，比最差的成绩多了 () 分。

18. (11分) 李萌同学对本班同学从下午放学到晚饭之前的活动情况进行了调查，结果如下表。

活动类型	参加兴趣小组	出去玩	看动画片	做作业
人数	12	11	13	14

请根据上表中的调查数据完成下面的条形图。

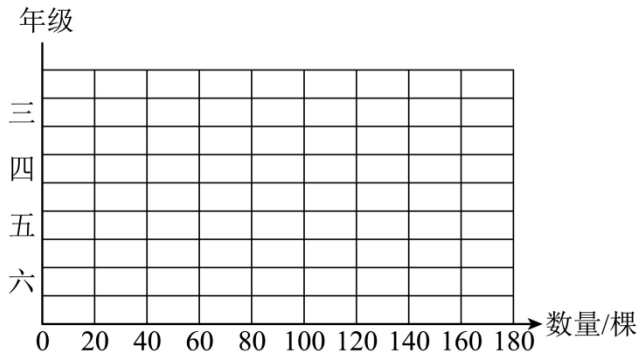


- (1) 下午放学到晚饭之前 () 的人数最多, () 的人数最少。
 (2) 李萌同学班上一共有多少人?

19. (11分) 下面是某小学去年植树节三到六年级植树情况统计表。

年级	三	四	五	六
数量/棵	60	90	130	160

- (1) 根据统计表完成下面的统计图。

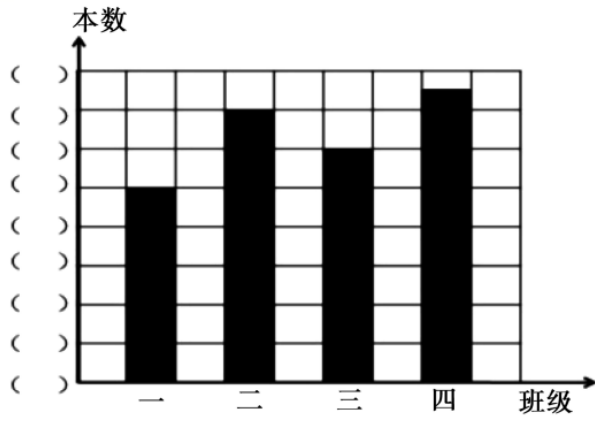


- (2) () 年级植树最多, () 年级植树最少。
 (3) 你能从图中得到哪些信息? 请写出两条。

20. (11分) 某学校四个班级的同学本学期阅读课外书情况如下:

班级	一	二	三	四	合计
阅读本数	50	70	60	75	()

- (1) 请把统计表和条形统计图补充完整。



- (2) 本学期 () 班阅读课外书本数最多。
- (3) 二班和三班一共读了 () 本。
- (4) 你还能提出什么问题?



扫码看答案：2606