

三年级下册数学单元测试-第七单元

小数的初步认识（基础卷）

（完成时间：60 分钟，总分：100 分）

一、选择题（满分 16 分）

1. 80.8 读作（ ）。

- A. 八零点八 B. 八十点零八 C. 八点八 D. 八十点八

2. 一个魔方 3.6 元，一个皮球 1.7 元。皮球比魔方便宜（ ）元。

- A. 5.3 B. 2.1 C. 1.9

3. 仔细观察这组数据 0.1、0.4、0.7、1.0，按规律下一个小数是（ ）。

- A. 1.1 B. 1.2 C. 1.3 D. 1.4

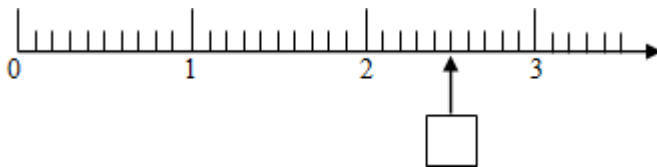
4. 和 9 分米不相等的是（ ）。

- A. $\frac{9}{10}$ 米 B. 9 厘米 C. 0.9 米

5. 帅帅买一本童话书花了 7.4 元，还剩下 12.6 元，帅帅带了（ ）元。

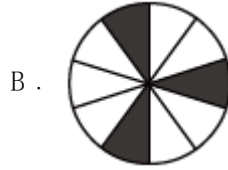
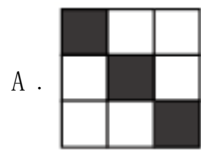
- A. 20 B. 19 C. 5.2

6. □里应该填（ ）。

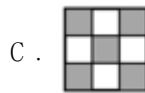
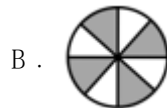


- A. 1.5 B. 2.4
C. 2.5

7. 下面 () 图中的涂色部分可以用 0.3 来表示。



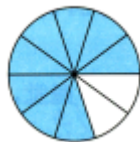
8. 下图中阴影部分不能用 0.5 表示的是 ()。



二、填空题 (满分 16 分)

9. 7 分米是 $\frac{(\quad)}{(\quad)}$ 米, 还可以写成 () 米; 10 元 8 角写成小数是 () 元。

10. 把图中涂色部分用分数和小数表示出来。



分数() 小数()

11. 8 角 = () 元, 6 分米 = () 米。

12. 小红有 1 元钱, 买了一支 3 角的铅笔, 还剩 () 元。

13. 三百零二点四写作 (); 10.07 读作 ()。

14. 小林在计算 $0.8 + 2.3$ 时, 错把 2.3 当成了 3.2, 结果比正确得数多了 ()。


15. 明明、军军和亮亮同时参加 100 米跑步, 8 秒过去了明明跑了 35.8 米, 军军跑了 49.2 米, 亮亮跑了 49.6 米, 他们三人中 () 离终点最近。

16. 今天早上测量体温 37.8°C , 有点发烧, 吃片退烧药就好了。“37.8”读作 ()。

三、判断题（满分 8 分）

17 . 小数一定比 1 小。()

18 . 3.97 读作三点九十七。()

19 .  左图中阴影部分可以用 0.2 表示。()

20 . 小丽说：“最大的小数是 0.9”。()

四、计算题（满分 12 分）

21 . (12 分)列竖式计算，带*的要验算。

$$14.6 + 5.7 = \qquad 31.8 - 17.2 =$$

$$*59 \times 72 = \qquad *826 \div 8 =$$

五、连线题（满分 6 分）

22 . (6 分)我会连。

$10.7 - 4.5$	5.8
$2.9 + 2.9$	6.2
$2.3 - 0.7$	8.1
$5.1 - 4.2$	1.6
$0.4 + 7.7$	0.9

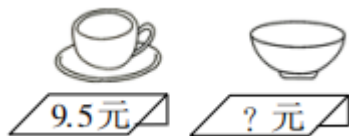
六、作图题 (满分 6 分)

23. (6分) 估一估, 照样子在直线上标出 1.5、2.9 和 4.1。



七、解答题 (满分 36 分)

24. (6分) 一个碗比一个茶杯贵 5.1 元, 一个碗多少钱?



25. (6分) 李彤带了 50 元钱, 买了一支笔和一套橡皮, 还想买一个修正带, 她的钱够吗?



26 . (6分)小明的爸爸去超市买了一桶油, 油和桶共重 5.1kg, 用去一半油后, 油和桶共重 2.6kg, 原来油和桶各重多少千克?

27 . (6分)爸爸做一套上衣需要用布 2.5 米, 做一套裤子用布 1.2 米, 爸爸做一套衣服用布多少米?

28 . (6分)买一枝铅笔和一把剪刀一共要付多少钱?



1.5元



5.6元

29 . (6分)平平从家到学校要走 13 千米, 走完 0.2 千米后又回到家里取书, 他到学校一共走了多少千米?



扫码看答案: 2556