

三年级下册数学单元测试-第二单元

除数是一位数的除法（基础卷）

一、选择题（满分 16 分）

1. 三位数除以一位数，商最少是（ ）位数。
A . 1 B . 2 C . 3
2. $824 \div 4$ 的商中间（ ）
A . 没有 0 B . 有 1 个 0 C . 有 2 个 0
3. 被除数的末尾有两个 0，商的末尾有（ ）个 0。
A . 2 B . 1 C . 不能确定
4. 下面的算式中，商是两位数的是（ ）
A . $625 \div 5$ B . $312 \div 4$ C . $383 \div 3$ D . 无选项
5. $\square \div \square = \square$ ，口是同一个数，这个数是（ ）
A . 0 B . 1 C . 2
6. 如果一只老虎重 750 千克，（ ）只老虎重 3 吨。
A . 3 B . 4 C . 5
7. $563 \div \square$ 的商是三位数，口里可以填（ ）
A . 1~5 B . 2~6 C . 3~7
8. $81 \div 9 \div 9 = \Delta$ ， Δ 是（ ）
A . 0 B . 9 C . 1 D . 18

二、填空题（满分 16 分）

9. 王老师 6 分钟打字 468 个，李老师 5 分钟打字 405 个，（ ）的打字速度快。
10. 每袋牛奶 3 元，36 元可以买（ ）袋牛奶。
11. 计算 $120 \div 3$ 时，将 120 看作（ ）个十，除以 3 得（ ）个十，是（ ）。
12. 16 的 5 倍是（ ），240 是 6 的（ ）倍。
13. $697 \div 7$ 的商是（ ）位数，估算的结果约是（ ），准确值是商（ ）余（ ）。
14. 计算 $36 \div 3$ 时，可以这样想： $30 \div 3 =$ （ ）， $6 \div 3 =$ （ ），（ ）+（ ）
 $=$ _____。

15. 要使 $251 \div \square 9$ 的商是两位数, \square 里最大填 () .

16. 在算式 $6\square 5 \div 3$ 中, 要使商中间有 0, 且没有余数, \square 里应填 () .

三、判断题 (满分 6 分)

17. 平价超市运来 4 箱保温杯, 每箱 8 个, 一共卖了 768 元, 求每个保温杯是多少元, 列式是 $768 \div 4 \div 8$. ()

18. $810 \div 7$, 商的末尾一定有一个 0. ()

19. 932 除以 4, 商中间有 0. ()

四、计算题 (满分 23 分)

20. (8 分) 直接写出得数。

$$600 \div 2 = \quad 9000 \div 3 = \quad 46 \div 2 = \quad 450 \div 5 =$$

$$280 \div 7 = \quad 48 \div 4 = \quad 200 \div 4 = \quad 3200 \div 4 =$$

21. (9 分) 直接写出得数

$$180 \div 3 = \quad 2100 \div 7 = \quad 64 \div 2 =$$

$$88 \div 4 = \quad 96 \div 3 = \quad 120 \div 3 =$$

$$540 \div 9 = \quad 360 \div 6 = \quad 86 \div 2 =$$

22. (6 分) 在里填上合适的数。

$\begin{array}{r} \square \square \square \\ 4 \overline{) 6 \square 2} \\ \underline{\square} \\ \square \square \\ \underline{\square 4} \\ \square 3 2 \\ \underline{\square \square} \\ 0 \end{array}$	$\begin{array}{r} \quad \quad 8 \square \\ 5 \overline{) \square \square \square} \\ \underline{\square \square} \\ \quad 3 \square \\ \underline{\square 5} \\ \quad \quad 3 \end{array}$
--	--

五、计算题 (满分 18 分)









23. (6 分) 大军和小美两家今年前 4 个月一共用水 120 吨, 每户人家平均每个月用水多少吨?

24. (6分)小明现在的体重是36千克,是刚出生时的9倍,小明现在比刚出生时重多少千克?

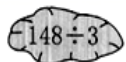




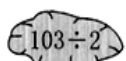
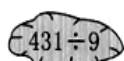

25. (6分)一个数的5倍是620.求这个数.

六、连线题(满分21分)

26. (6分)小兔采蘑菇。(连一连)

 $69 \div 3$	 $60 \div 4$	 $86 \div 2$	 $72 \div 4$
 15	 23	 18	 43

27. (6分)估一估,连一连。

 $148 \div 3$	 $206 \div 4$	 $345 \div 7$
 商小于50	 商大于50	
 $103 \div 2$	 $431 \div 9$	 $307 \div 6$

28. (9分)连一连:

8个红球

6个黄球 2个红球

8个蓝球

1、

可能是黄球

不可能是红球

一定是红球

$20 \div 8$

$26 \div 4$

$23 \div 7$

$27 \div 5$

$17 \div 9$

$55 \div 6$

2、

余数是 1

余数是 2



扫码看答案: 2522