

三年级上册数学第六单元过关检测卷一

时间：60分钟 满分：100分

题号	一	二	三	四	五	六	总分
得分							

一、我会填。(1、2、7、8、10题每空0.5分，其余每空1分，共19分)

- 口算 400×8 时，想：()个百和8相乘得()个百，就是()。
- 估算 198×5 时，可以把198看作()，再乘以5，估算结果是()。
- 0和任何数相乘都得()，()与任何数相乘仍得这个数。
- 218×6 的积是()位数， 314×3 的积是()位数。
- $2K \times 4$ 的积是两位数，K里最大填()； $K57 \times 4$ 的积是四位数，K里最小填()。
- 27的3倍是()，27是()的3倍。
- 在 \bigcirc 里填上“>”“<”或“=”。
 $52 \times 5 \bigcirc 250$ $67 \times 3 \bigcirc 63 \times 7$
 $78 + 0 \bigcirc 78 \times 0$ $402 \times 2 \bigcirc 204 \times 4$
 $150 \times 6 \bigcirc 180 \times 5$ $6 + 7 + 0 \bigcirc 6 \times 7 \times 0$
- $251 + 253 + 255 + 257 + 259 = () \times () = ()$
- $K28 \times 4$ 的积是三位数，K里最大填()；如果积是四位数，K里最小填()。
- 王老师的身份证号码是 421182197208095378，由这个号码可以

$231 \times 0 =$

$39 \times 4 \approx$

$600 \times 5 =$

$80 \times 5 =$

$350 - 70 =$

$297 \times 4 \approx$

$150 \times 2 =$

$579 + 0 =$

$80 - 40 \times 2 =$

$602 \times 4 \approx$

2. 列竖式计算。(每题 2 分, 共 12 分)

$315 \times 7 =$

$683 \times 7 =$

$509 \times 8 =$

$480 \times 9 =$

$815 \times 4 =$

$2900 \times 4 =$

3. 判断对错, 并把错的改正过来。(每题 2 分, 共 4 分)

(1) $308 \times 7 = 21056$

$$\begin{array}{r} 308 \\ \times \quad 7 \\ \hline 21056 \end{array} \quad (\quad) \quad \text{改正:}$$

(2) $270 \times 6 = 162$

$$\begin{array}{r} 270 \\ \times \quad 6 \\ \hline 162 \end{array} \quad (\quad) \quad \text{改正:}$$

4. 脱式计算。(每题 2 分, 共 6 分)

$$250 \times 3 - 567$$

$$618 - 72 \times 5$$

$$(507 - 488) \times 6$$

5. 在 \bigcirc 里填上适当的运算符号。(每题 1 分, 共 4 分)

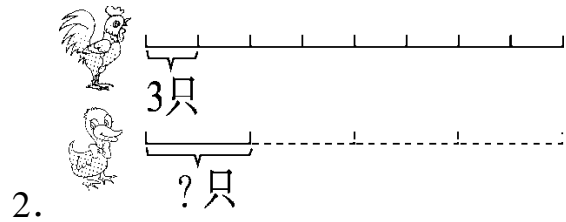
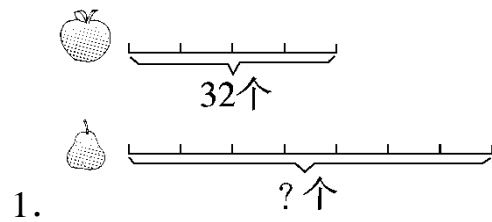
$$0 \bigcirc 8 = 8$$

$$12 \bigcirc 0 = 12$$

$$30 \bigcirc 30 = 0$$

$$80 \bigcirc 0 = 0$$

五、看图列式计算。(每题 2 分, 共 4 分)

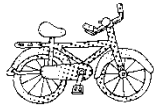


六、解决问题。(1 题 5 分, 2 题 8 分, 4 题 6 分, 其余每题 4 分, 共 35 分)

1. 李老师去商店买办公用品, 他要带多少钱? 填表完成。

物品	单价	数量	总价
资料架	198 元	3 个	
钟表	52 元	4 个	
办公桌	469 元	8 张	
订书机	23 元	6 个	

合计			
----	--	--	--



2. 158元/件

? 元/辆

108元/条

(1)爸爸准备购买 2 件外套，大约要准备多少钱？

(2)今天卖了 8 条裤子，商店收款多少钱？

(3)自行车的价格是外套的 5 倍，买一辆自行车要花多少钱？

3. 一列火车挂了 10 节车厢，共有 1142 个座位，其中 9 节车厢各有 118 个座位，另一节车厢有多少个座位？



5只大熊猫每天共吃竹子30千克。

4.

(1)照这样计算，19 只大熊猫每天共吃竹子多少千克？

(2)现有 54 千克竹子，能供多少只大熊猫吃 1 天？

5. 小明步行去上学，他每分钟走 150 米，8 分钟就可以走到学校。
他每天上、下学要走多少米？

6. 希望小学共有 8 间教室，每间教室准备新添一组柜子，每组柜子
408 元，准备 3200 元够吗？

7. 美国的伊利运河全长 584 千米，我国的京杭大运河比伊利运河的
3 倍还长 45 千米。京杭大运河全长多少千米？



扫码看答案：2482