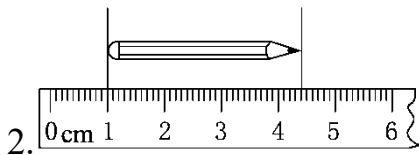
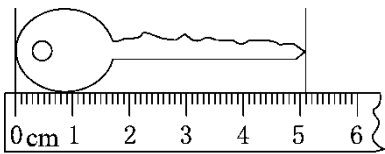


三年级上册数学第三单元过关检测卷一

一、我会填。(每空 1 分, 共 35 分)



从刻度 0 到刻度 3 的长度是()厘米, 也可以说是()毫米; 从刻度 1 到刻度()的长度是 60 毫米。



图中钥匙的长是()毫米; 铅笔的长是()厘米()毫米。

3. 一名三年级学生的体重是 35(), 身高是 130()。
4. 我家距离学校大约有()米, 步行大约需要()分钟。
5. 一辆载质量 3()的卡车, 运载每箱 15()的苹果, 这些苹果个儿挺大的, 每个有 200()重。
6. 1 米=()分米=()厘米
80 毫米=()厘米
9 千米=()米
6000 克=()千克
13 吨-3000 千克=()吨
10000 米=()千米
2 分米 3 厘米=()厘米

18 毫米=()厘米()毫米

7. 在括号里填上合适的单位。

(1)5 角硬币厚约 2();

(2)课桌高约 6();

(3)一只鸡重 2();

(4)大象约重 4();

(5)长江全长约 6300();

(6)一袋食盐净重 500();

(7)粉笔长约 8();

(8)一棵大树高约 10()。

8. 在括号里填上合适的数。

(1)沿着 400 米长的环形跑道跑()圈是 2 千米。

(2)一名同学的体重是 20 千克, ()名这样重的同学重 1 吨。

(3)飞机每小时飞行 800 千米, 2 小时飞行()千米。

(4)一头小牛重 500 千克, ()头这样的牛重 1 吨。

二、我是小法官。(对的画“√”, 错的画“×”)(每题 2 分, 共 10 分)

1. 相邻长度单位之间的进率均为 10。()

2. 你的拇指宽大约 100 毫米。()

3. 1 吨的石头肯定比 1000 千克棉花重。()

4. 一只鸡蛋约重 50 千克。()

5. 人每分钟走约 70 米。()

三、选择题。(将正确答案的字母填在括号里)(每题 2 分, 共 12 分)

1. 1 千克与 1 千米比较, 结果是()。
A. 1 千克大 B. 1 千米大
C. 同样大 D. 无法比较
2. 计量较重的物品或大宗物品的质量, 通常用()作单位。
A. 吨 B. 千米 C. 千克 D. 克
3. 《新编小学生字典》的厚度约是 21()。
A. 千米 B. 米 C. 厘米 D. 毫米
4. 公共汽车两站之间的距离约是 2000()。
A. 千米 B. 厘米 C. 分米 D. 米
5. 某地区的降水量约是 50()。
A. 毫米 B. 厘米 C. 分米 D. 米
6. 一头大象重 6 吨 60 千克, 合()。
A. 6600 千克 B. 6060 千克
C. 6006 千克 D. 66 千克

四、按要求答题。(1、2 题各 5 分, 3、4 题各 8 分, 共 26 分)

1. 将下列两组数量按从大到小的顺序排列。

(1)400 厘米 30 米 20 分米 1 千米

(2)1 吨 8000 克 1750 千克 45 千克

2. 分一分，并按从小到大的顺序填一填。(要求用字母表示的形式来填)

千米 克 吨 毫米 分米

千克 米 厘米

长度单位

质量单位

--	--

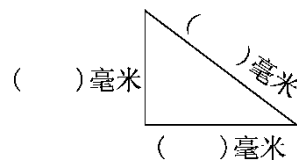
3. 画一画。

(1)画一条长 64 毫米的线段。

(2)画一条比 5 厘米少 5 毫米的线段。

(3)画一条比 1 分米多 2 厘米的线段。

(4)先量一量，再算一算。



三角形的三条边一共长()毫米，合()厘米。

4. 算一算，填一填。

$$2 \text{ 米} - 8 \text{ 分米} = (\quad) \text{ 分米}$$

$$46 \text{ 厘米} + 34 \text{ 厘米} = (\quad) \text{ 分米}$$

$$5 \text{ 千米} - 3000 \text{ 米} = (\quad) \text{ 米}$$

$$98 \text{ 毫米} - 48 \text{ 毫米} = (\quad) \text{ 厘米}$$

$$650 \text{ 千克} + 350 \text{ 千克} = (\quad) \text{ 吨}$$

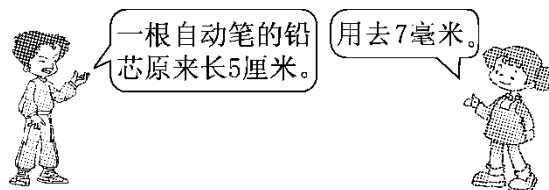
$$5 \text{ 吨} - 2000 \text{ 千克} = (\quad) \text{ 吨}$$

$$4 \text{ 厘米} + 8 \text{ 毫米} = (\quad) \text{ 毫米}$$

$$6 \text{ 千米} - 4500 \text{ 米} = (\quad) \text{ 米}$$

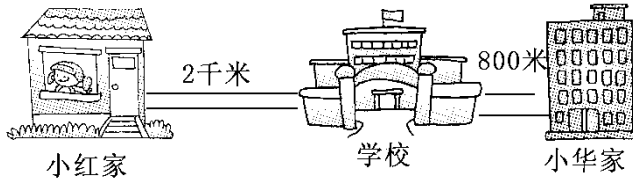
五、解决问题。(5题5分，其余每题3分，共17分)

1. 还剩多少毫米？



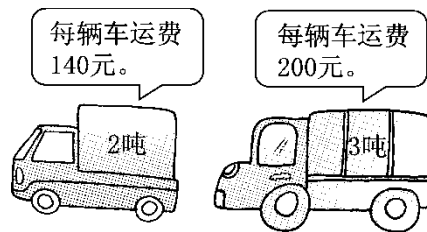
2. 有一根长 1 分米的火腿肠，小明吃了 6 厘米长的一截，妈妈把剩下的每 5 毫米切成一片，一共可以切几片？

3. 星期天，小红到小华家做作业。小红走到学校门口，发现作业本忘在家中，立即返回家中取作业本，再到小华家。小红一共走了多少米？



4. 一辆汽车载质量是4吨，仓库里有4台机器，每台机器重900千克，能一次运完吗？

5. 有13吨货物，怎样派车，运费最少？



扫码看答案：2475