



二年级下册数学第二单元过关检测卷

一、填一填。(每空1分,共9分)

1. 把18支铅笔平均分成6份,每份有()支。
2. $24 \div 4 = 6$,运用的口诀是()。
3. 30里面有()个5,()里面有4个3。
4. 用二六十二这句口诀计算的除法算式有()和()。
5. 15个,每3个一份,可以分成()份。
6. 20个,平均分成5份,每份()个。
7. 从18里连续减()个6,结果是0。

二、判断。(对的画“√”,错的画“×”)(每题1分,共5分)

1. $8 \div 2 = 4$,读作8除2等于4。()
2. 计算 $10 \div 2 = 5$ 和 $10 \div 5 = 2$ 都用二五一十这句口诀。()
3. 把8个苹果分给明明和芳芳,每人分4个苹果。()
4. $14 \div 2 = 7$,14是除数,2是被除数,7是商。()
5. 商一定比被除数小。()

三、选一选。(每题2分,共10分)

1. 下面的分法中,是平均分的是()。



A B C

2. 被除数是6,除数是3,商是()。

A. 18 B. 2 C. 3

3. 下面算式中，商不是1的是()。

A. $8 \div 8$

B. $12 \div 4$

C. $1 \div 1$

4. 20 里面有 4 个()。

A. 5

B. 4

C. 16


5. 用五五二十五这句口诀能写()道除法算式。

A. 2


B. 1

C. 3


四、看图列式计算。(3 题 4 分，4 题 6 分，其余每题 2 分，共 14 分)



$$\square \bigcirc \square = \square$$



$$\square \bigcirc \square = \square$$



$$\square \div \square = \square$$

$$\square \div \square = \square$$



$$\square \times \square = \square$$

$$\square \div \square = \square$$

$$\square \div \square = \square$$

五、我会算。(18分)

$$18 \div 3 = \quad 6 \div 6 = \quad 20 \div 5 =$$

$$4 \times 2 = \quad 30 \div 6 = \quad 16 - 7 =$$

$$8 \div 4 = \quad 62 - 40 = \quad 2 \times 5 =$$

$$20 + 3 = \quad 30 \div 6 = \quad 25 \div 5 =$$

$$18 \div 6 = \quad 7 \times 2 = \quad 15 \div 3 =$$

$$15 + 6 = \quad 3 \div 3 = \quad 12 \div 4 =$$

六、在○里填上适当的运算符号。(6分)

$$4 \bigcirc 4 = 16$$

$$4 \bigcirc 2 = 6$$

$$9 \bigcirc 3 = 3$$

$$15 \bigcirc 3 = 5$$

$$25 \bigcirc 5 = 30$$

$$10 \bigcirc 5 = 5$$

七、列式计算。(每题3分，共12分)

1. 被除数是14，除数是7，商是多少？

2. 把20平均分成5份，每份是多少？

3. 18 里面有几个 3?

4. 5 个 8 是多少?

八、★遮住的是几? (6 分)

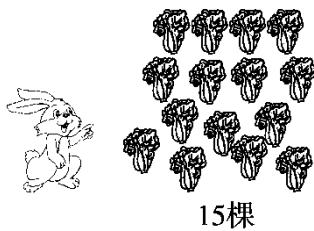
$$18 \div \star = 6 \quad \star \times 5 = 20$$

$$\star \div 6 = 1 \quad 30 \div \star = 6$$

$$4 \times \star = 16 \quad \star \div 2 = 5$$

九、解决问题。(每题 6 分, 共 18 分)

1. 小白兔收白菜。



(1) 每个筐放 5 棵白菜, 需要几个筐?



(2) 小白兔要把这些白菜放到 3 个筐里，平均每个筐放几棵白菜？

2. 六一儿童节到了，李老师买来两束气球，每束 6 个。


(1) 一共买了多少个气球？

(2) 李老师准备把这些气球挂在 4 个窗户上，平均每个窗户上挂几个气球？

(3) 这些气球有两种颜色，黄色气球有 4 个，蓝色气球有几个？

3. 王老师买来了 24 个  和 18 个 .

(1) 把这些  平均装在 4 个袋子里，每个袋子装几个？

(2) 每个袋子装 6 个 ，这些苹果要几个袋子？

十、我会填。(2分)

$$\text{苹果} + \text{苹果} + \text{苹果} + \text{苹果} = 16$$

$$12 = \text{梨} + \text{梨} + \text{梨} + \text{梨}$$

$$\text{苹果} = (\quad) \quad \text{梨} = (\quad)$$



扫码看答案：2430