

人教版二年级数学上册单元测试卷一

第四单元 基础卷

题号	一	二	三	四	五	六	总分
分数							

得分	
----	--

一、填空题。(25分,每空1分)

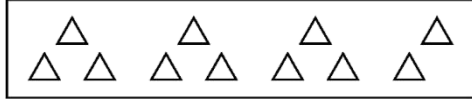
- $3 \times 5 = 15$, 读作(), 表示()个()相加的和是15, 计算时所用的口诀是()。
- 根据口诀四六二十四可以写出的乘法算式是()和()。
根据二二得四写出的乘法算式是()。
- 5个5相加的和是(), 写成乘法算式是()。
- 把下面的加法算式改写成乘法(或乘加或乘减)算式。
 $2+2+2+2+2+2=$ ()
 $5+5+5+4=$ ()
 $4+4+4+4-5=$ ()
- 按规律填数。
(1) 3, 6, (), (), 15, ()。
(2) 36, (), 24, (), (), 6。
- 一个数是4, 另一个数比它大2, 这两个数的积是()。
- 2个3相加, 得数是(); 2个3相乘, 得数是()。
- 1本故事书6元, 1本漫画书4元, 买5本故事书和1本漫画书, 一共需要()元。
- 幼儿园老师买来一些皮球, 比30个少, 比20个多。如果每6个装一盒, 正好装完。这些皮球有()个。
- 3个5相加的和再减去4, 差是多少? 列式是()。

11. 一个因数3, 另一个因数6, 积是()。

得分	
----	--

二、选择题。(10分, 每小题2分)

1. 求一共有多少个 \triangle , 算式正确的是()。



- A. 3×3 B. 3×4 C. $3 \times 3 + 2$

2. 以下不属于4的乘法口诀的是()?

- A. 二四得八 B. 三四十二 C. 四五二十


3. 可以改写成乘法算式 4×3 的是()。

- A. $4 \times 2 + 4$ B. $3 + 3 + 3$ C. $4 + 4 + 4 + 4 + 4$

4. 下面可以用乘法算式 2×6 表示的是()。

- A.  B.  C. 

5. 下图中一共有多少个苹果, 列式错误的是()。

- 
- A. $3 \times 4 - 2$ B. $3 \times 4 - 1$ C. $3 \times 3 + 2$

得分	
----	--

三、判断题。(5分, 每小题1分)

1. $3 + 3 + 3 + 4$ 可以写成 $3 \times 3 + 4$ 。 ()
2. 计算 2×5 和 5×2 用的是同一口诀。 ()
3. 两个乘数都是5, 积是10。 ()
4. 计算“ $6 \times 3 = 18$ ”的乘法口诀是六三十八。 ()
5. 计算 $2 \times 2 = 4$ 和 $1 \times 4 = 4$ 用的是同一句乘法口诀。 ()

得分	
----	--

四、计算题。(25分)

1. 直接写得数。

$2 \times 5 =$

$3 \times 5 =$

$3 + 5 =$

$4 \times 5 + 20 =$

$5 \times 5 + 15 =$

$4 \times 3 + 38 =$

$2 \times 4 + 62 =$

$3 \times 3 + 41 =$

$2 \times 1 + 26 =$

$4 \times 6 + 42 =$

$6 \times 6 - 25 =$

$6 \times 5 - 29 =$

2. ()里最大能填几?

$4 \times () < 23$

$31 > 6 \times ()$

$() \times 3 < 13$

$34 > 6 \times ()$

$19 > 5 \times ()$

$3 \times () < 8$

$17 > 4 \times ()$

$() \times 2 < 11$

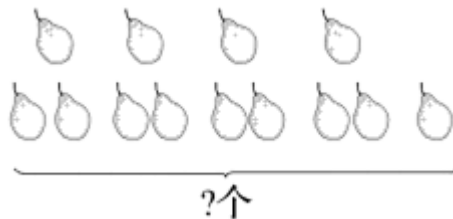
3. 看图列算式。

(1)



$\square \times \square = \square \text{ (只)}$

(2)



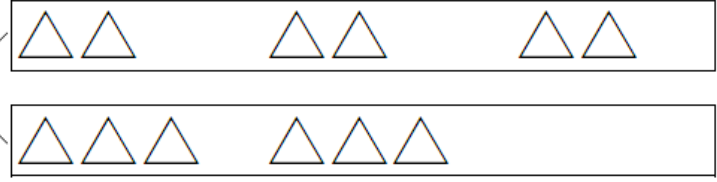
$\square \times \square + \square = \square \text{ (个)}$

得分	
----	--


五、操作题。(5分)

画图表示下面算式的含义。


例: 2×3



1. 3×4



2. 6×2



得分	
----	--

六、应用题。(30分)

1. 如下图, 如果有6张这样的球台, 那么, 可以安排多少人进行乒乓球单打比赛?



2.




3元



4元



3元



15元

(1) 买5个文具盒需要多少元?

(2) 买4根跳绳和1顶帽子, 妈妈带了30元钱, 够吗?

(3) 你还能提出其他用乘法解决的问题并解答吗?

3. 木工师傅要把一根粗细均匀的木头锯成 4 段，每锯一次需要 3 分钟，一共需要多少分钟？（先试着画图帮助理解题意，再解答）

4. 停车场中卡车的辆数是客车的 5 倍，客车有 9 辆，卡车有多少辆？

5. (1) 王阿姨买了两种水果，一种 6 个，另一种 4 个。她一共买了多少个水果？

(2) 张阿姨买了 4 种水果，每种 6 个。她一共买了多少个水果？



扫码看答案：2413