

# 人教版二年级数学上册单元测试卷一

## 第二单元 基础卷

| 题号 | 一 | 二 | 三 | 四 | 五 | 总分 |
|----|---|---|---|---|---|----|
| 分数 |   |   |   |   |   |    |

|    |  |
|----|--|
| 得分 |  |
|----|--|

一、填空题。(25分,每空1分)

- 比54多13的数是( );比68少26的数是( )。
- 一个数是59,另一个数是24,这两个数的和是( ),差是( )。
- 在一次爱心捐款活动中,小丁捐了18元,小龙捐了25元,小金捐了29元,他们一共捐了( )元。
- 一个文具盒28元,比一盏台灯少37元,一盏台灯要( )元,买这两件物品需要( )元。
- 找规律填数。
  - 37, 45, 53, ( ) ( ) ( )。
  - 92, 83, 74, ( ) ( ) ( )。
- 王老师剪了38朵红花和24朵黄花,昨天奖给小朋友们29朵,还剩( )朵花。
- 74比38与49的和少( )。
- 在○里填上“>”“<”或“=”。  
 $66 \bigcirc 53+14$        $85-24 \bigcirc 83-24$   
 $57-12 \bigcirc 57+12$        $99 \bigcirc 27+72$
- 在( )里填上合适的数。  
( )  $-27=46$        $87-( )=25$       ( )  $+35-28=41$   
 $73-( )=34$        $56+( )=83$        $90-37-( )=28$

|    |  |
|----|--|
| 得分 |  |
|----|--|

二、选择题。(10分, 每小题2分)

1. 一个数加( ), 和还是原来的数。

- A. 1          B. 0          C. 10

2. 42加上( ), 得75。

- A. 37          B. 33          C. 43

3. 80减去27加上36得多少? 列式是( )。

- A.  $80-27+36$           B.  $80+36-27$           C.  $86-27-36$

4. 与 $82-38$ 得数相等的算式是( )。

- A.  $72-38$           B.  $27+17$           C.  $16+38$

5.  $76-16$ 与 $25+34$ 的结果相比较( )。

- A.  $(76-16)$ 大          B.  $(25+34)$ 大          C. 同样大

|    |  |
|----|--|
| 得分 |  |
|----|--|

三、判断题。(5分, 每小题1分)

1. 任意两个数相加的和一定大于这两个数相减的差。 ( )

2. 如果 $A+16=B+18$ , 那么 $A>B$ 。 ( )

3. 比23少13的数是36。 ( )

4. 在减法里, 差一定比被减数小。 ( )

5. 两位数减两位数, 差可能是一位数, 也可能是两位数。 ( )

|    |  |
|----|--|
| 得分 |  |
|----|--|

四、计算题。(25分)

1. 直接写得数。

$53+0=$

$67+12=$

$78-45=$

$37+15-24=$

$89-46+25=$

$83-34-18=$

2. 用竖式计算。

$56+29=$

$92-78=$

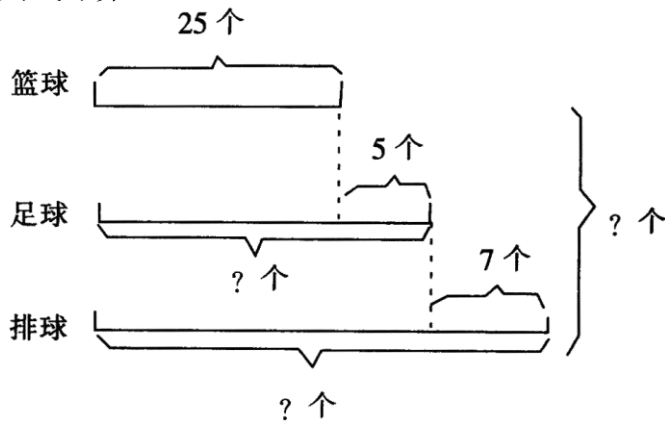
$70-37+28=$

$100 - 76 =$

$81 - 79 =$

$86 - (45 + 26) =$

3. 看图列式计算。



足球有几个？列式\_\_\_\_\_

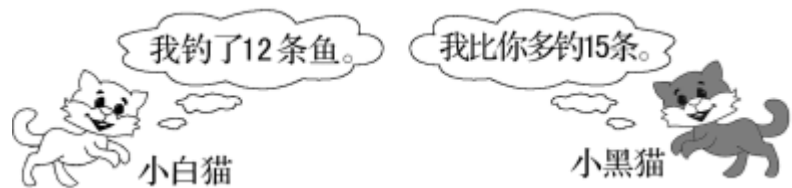
排球有几个？列式\_\_\_\_\_

一共有几个球？列式\_\_\_\_\_

得分

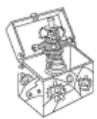
五、应用题。（35分）

1. 小黑猫钓了多少条鱼？



2. 芳芳做了 39 道数学题, 比小明少做 14 道, 他俩一共做了多少道数学题?

3. 李阿姨带了 80 元买下面的玩具。



35 元



28 元



23 元

(1) 李阿姨带的钱够买这三样玩具吗?

(2) 李阿姨要买两样玩具, 最少要花多少钱?

4. 一根电线长 100 米, 第一次用去 29 米, 第二次用去 36 米, 现在电线的长度比原来短了多少米?

5. 一桶油连桶重 28 千克，倒出一半油后，连桶重 15 千克，求一桶油重多少千克？空桶重多少千克？

6. 为地震灾区捐款。

|      |      |      |
|------|------|------|
| 李明   | 王丹   | 张丽   |
| 50 元 | 18 元 | 25 元 |

(1) 三人一共捐了多少钱？

(2) 请你再提出一个数学问题，并解答。



扫码看答案：2408

www. 201800. com