

人教版二年级数学上册单元测试卷一

第一单元 基础卷

题号	一	二	三	四	五	六	总分
分数							

得分 一、填空题。(30分, 每空1分)

- 量操场的长度一般用()作单位; 量铅笔的长度一般用()作单位。
- 尺子上5到12之间的距离长()厘米。
- 10厘米+90厘米=()米
- 在米尺上, 从刻度0到刻度100是()厘米, 也就是()米。
- 在○里填上“>”“<”或“=”。

5米○50厘米

90厘米○1米

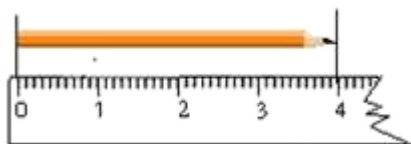
2米○200厘米

42厘米○29厘米


70厘米○7米

1米30厘米○80厘米

6.



铅笔长()厘米



图钉长()厘米

7. 量一个物体的长度, 一般把尺的()刻度对准物体的左端。

8. 在()里填上合适的长度单位。

钢笔长15()

长颈鹿高4()

打火机的长大约是8()

楼房的高是15()

妈妈的身高1() 58()

筷子的长大约是25()

9. 82厘米+6厘米=()厘米

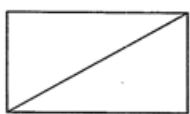
40米+20米=()米

25米-8米=()米

40厘米+26厘米=()厘米

90 厘米+10 厘米=()厘米=()米

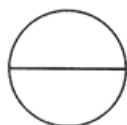
10. 数一数, 下面的图形中各有几条线段?



() 条



() 条



() 条

得分	
----	--

二、选择题。(10 分, 每小题 2 分)

1. 茶杯高 15____, 在横线上应填的单位名称是 ()

- A. 厘米 B. 米 C. 元 D. 分

2. 蓝鲸是世界上最大的动物, 身长 33 米, 比大象长 30 米, 大象身长 ()

- A. 4 米 B. 3 米 C. 2 米 D. 1 米

3. 长 1 米的木棒与长 100 厘米的铁丝相比 ()。

- A. 木棒长 B. 铁丝长 C. 一样长

4. 黑板的长度大约是 ()

- A. 4 米 B. 20 厘米 C. 12 米 D. 100 厘米

5. 小敏参加赛跑, 他大约用 11 秒跑了 50 ()

- A. 米 B. 厘米 C. 元

得分	
----	--

三、判断题。(5 分, 每小题 1 分)

1. 7 厘米+3 厘米=1 米 ()

2. 线段是直的, 可以量出长度。 ()
3. 长方形是由 4 条线段围成的。 ()
4. 量从家到学校的距离, 用厘米作单位比较合适。 ()
5. 1 米长的绳子和 100 厘米长的绳子一样长。 ()

得分	
----	--

四、计算题。(25 分)

1. 口算。

$59-30=$ $7+23=$ $90-3=$ $49-11=$

$87-70=$ $48+20=$ $82-20=$ $32-8=$

$90-8=$ $37+4=$ $86-8=$ $4+70=$

2 计算。

$5+49+5=$ $74+9-20=$ $76+8-9=$ $43-8+30=$

$95-40-10=$ $81-2-9=$ $60+8-20=$ $39+10-8=$

$70+30-50=$ $48-9-20=$ $47-(15-8)=$ $52-(4+6)=$

3. 在 () 内填上合适的数

$22-()=7$ $13+()=20$ $32-()=8$

$35-()=15$ $18+()=68$ $()+5=14$

得分	
----	--

五、操作题。(5 分)

1. 画一条长 5 厘米的线段。

2. 画一条比下面的线段长 4 厘米的线段。

2厘米

得分	
----	--

六、应用题。(25分)

1. 小芳身高为96厘米, 她再长高多少厘米就是1米?



我身高有96厘米。

你再长高多少就是1米?




2. 一根绳子长26米, 第一次剪去4米, 第二次剪去2米, 还剩多少米?

3. 丽丽家离学100米, 她已经走了50米, 再走多远就到学校了?

4. 小马虎身高 80 厘米，教室的门高 1 米，小马虎比教室的门矮多少？

5. 小明身高 1 米，丽丽身高多少厘米？



扫码看答案：2406