








一年级下册数学第六单元达标测试卷一

一、找座位。(连一连)(7分)




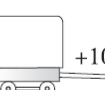









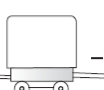


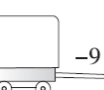



二、我会算。(1、2题各15分，3题10分，共40分)

1.小动物回家。

		
$53-50=$	$76-4=$	$36+8=$
$90-6=$	$32+60=$	$40+13=$
$22+50=$	$81-7=$	$8+42=$
$25+3=$	$83-70=$	$56-20=$
$7+43-2=$	$50+29-3=$	$73-(20+40)=$
		

2.开火车。

	+5		+20		+4		+10		-40	
	+8		+8		+8		+8		+8	
	-9		-9		-9		-9		-9	

3.算出每张卡片上两个数的和与差。

$$\begin{array}{c} 56 \\ 30 \end{array}$$

$$\begin{array}{c} 43 \\ 8 \end{array}$$

$$\begin{array}{c} 64 \\ 6 \end{array}$$

$$\begin{array}{c} 55 \\ 7 \end{array}$$

$$\begin{array}{c} 38 \\ 9 \end{array}$$

和：_____ 和：_____ 和：_____ 和：_____ 和：_____

差：_____ 差：_____ 差：_____ 差：_____ 差：_____

三、下面的计算对吗？把不对的改正过来。(6分)

$25+8=23$ () 改正：_____

$53+4=93$ () 改正：_____

$37-5=22$ () 改正：_____

$42-7=45$ () 改正：_____

$36-(6-5)=25$ () 改正：_____

$50-(7+3)=30$ () 改正：_____

四、把算式按得数大小排一排。(6分)

$$53-9$$

$$48+4$$

$$82-8$$

$$7+65$$

$$73-30$$

$$95-50$$

() > () > () > () > () > ()

五、在□里填上合适的数。(7分)

$$38 + \square = 44$$

$$\square - 30 = 27$$

$$35 + \square = 35 - \square$$

$$20 + 30 > \square$$

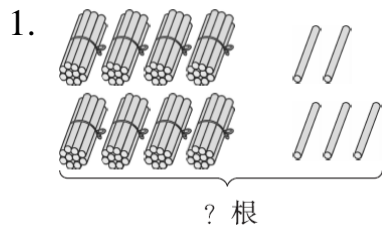
$$\square - 9 < 39$$

$$\square + 8 > 25$$

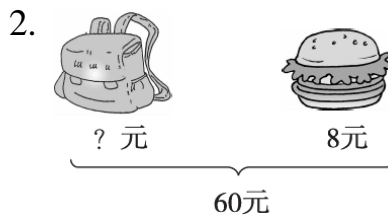
六、芳芳要送多少个给丽丽，她们的灯笼才同样多？(5分)



七、看图列式。(每题 2 分, 共 4 分)



$$\square \bigcirc \square = \square \quad (\quad)$$



$$\square \bigcirc \square = \square \quad (\quad)$$

八、解决问题。(3 题 7 分, 其余每题 6 分, 共 25 分)

1. 聪聪买这件上衣付给售货员 90 元, 找回来 8 元, 这件上衣多少钱?



妈妈准备了 3 盘苹果, 每盘 7 个, 一共有多少个苹果?

3. 一(1)班 28 人, 一(2)班 30 人, 一(3)班 35 人。哪两个班的学生可以一起乘车?



限乘 60 人

4. 体育室一共有 94 根跳绳, 其中黄色 40 根, 上周借给一年级 30 根, 体育室还有多少根跳绳?



扫码看答案: 2393