

一年级数学下册第四单元达标测试卷一

一、我会填。(每空 1 分, 共 15 分)

1. 6 个十和 8 个一合起来是 (), 100 是由 () 个十组成
2. 和 70 相邻的两个数分别是 () 和 ()。
3. 一个两位数, 十位上的数字是 3, 个位上的数字是 9, 这个数是()。
4. 45 后面第三个数是(), 80 前面的一个数是 ()。
5. 比 81 大比 85 小的数有 () 、() 、()。
6. 36 里面有 () 个十和 () 个一。

7.

46	47	48			51	52	
----	----	----	--	--	----	----	--

二、我会判断。(每题 1 分, 共 5 分)

1. 一个数的最高位是十位, 这个数一定是两位数。 ()
2. 44 的十位上的 4 和个位上的 4 表示的意义相同。 ()
3. 六十八写作: 608 ()
4. 写数和读数都从高位起。 ()
5. 47 和 57 十位上的数字都是 7。 ()

三、选一选。(每题 1 分, 共 5 分)

1. 66 中的两个“6”分别表示()。
A. 6 个十和 6 个一 B. 6 个十和 6 个百 C. 表示的意义相同
2. 在下面的数中个位是 8 的数是()。
A. 85 B. 58 C. 80
3. 和 70 最接近的数是()。
A. 75 B. 66 C. 71

4.比 45 少得多的数是()。

A.11

B. 96

C. 43

5.个位和十位相同的数是()。

A.23

B. 99

C. 90

四、我会算。(1 题 9 分, 2 题 6 分, 3 题 5 分, 共 20 分)

1. 直接写出答案。

$74-4=$

$5+40=$

$98-8=$

$30+8=$


$83-3=$

$49-40=$

$56-50=$

$60+7=$

$4+30=$

2. 在  里填上合适的数。

$\text{apple} + 5 = 75$

$30 + \text{apple} = 37$

$73 - \text{apple} = 70$

$\text{apple} - 40 = 3$

$81 - \text{apple} = 1$

$\text{apple} + 20 = 24$

3. 排一排。

$50+9$

$68-8$

$2+70$

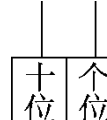
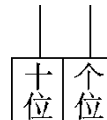
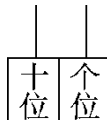
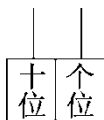
$44-40$

$8+30$

() > () > () > () > ()

五、画一画, 填一填。(8 分)

你能用 5 个●摆出不同的数吗?



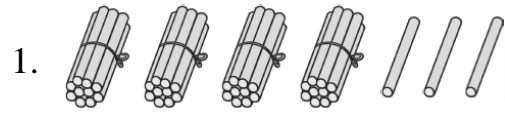
() () () ()

六、用 $\boxed{5}$ $\boxed{0}$ $\boxed{8}$ 按要求组数。(1 题 2 分, 2 题 4 分, 共 6 分)

1.组成最大的两位数是 (), 最小的两位数是 ()。

2.把组成的所有的两位数按从小到大排列。

七、看图列式计算。(每题4分,共8分)

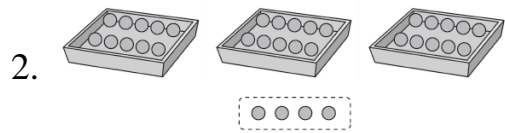


$$\square + \square = \square$$

$$\square + \square = \square$$

$$\square - \square = \square$$

$$\square - \square = \square$$



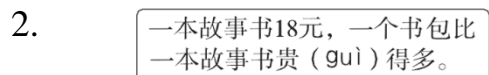
$$\square - \square = \square$$

八、猜一猜。(每题4分,共8分)



男生可能有多少名?(在合适的人数下面画“√”)

20	24	30	60



一个书包可能多少元?(在合适的钱数下面画“○”)

6	10	20	50

九、解决问题。(1题5分,4题7分,其余每题6分,共25分)

1. 先圈一圈，再回答问题。38 块糖，每 10 块装一盒，能装满几盒？



2. 希望小学二年级 6 位老师带 40 个学生去博物馆参观。他们选择哪辆车合适？



限乘45人



限乘50人

3. 李阿姨要洗多少个碗？



我洗了40个碗，
还剩3个。

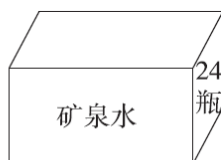


$$\square \bigcirc \square = \square \quad (\quad)$$

4.



有20名运动员
和5名教练。



每人一瓶矿泉水，
准备一箱矿泉水
够吗？



扫码看答案：2386