

人教版数学一年级下册第二单元过关检测卷

一、相信你会全算对。(16分)

$16-9=$	$3+9+5=$	$13-8=$	$11-5+9=$
$12-4=$	$13-6+7=$	$14-6=$	$15-6+9=$
$6+8=$	$12-5+8=$	$13-5=$	$11-8+8=$
$11-9=$	$18-4-5=$	$8+5=$	$10-4+6=$

二、在  填上合适的数。(6分)

$11 - \text{heart} = 5$


$12 - \text{heart} = 8$

$\text{heart} - 6 = 6$

$14 - \text{heart} = 5$

$\text{heart} + 8 = 17$

$15 - 6 = \text{heart}$

三、在  里填上“>”“<”或“=”。(4分)

$12 - 9 \text{ } \text{circle} \text{ } 4$

$13 - 9 \text{ } \text{circle} \text{ } 5$

$12 - 7 \text{ } \text{circle} \text{ } 13 - 8$

$10 + 2 \text{ } \text{circle} \text{ } 17 - 8$

四、里最大能填几?(6分)

$12 - \text{circle} > 5$

$8 + \text{circle} < 16$

$17 - \text{circle} > 8$


$7 + \text{circle} < 15$


$7 - \text{circle} < 7$

$7 + \text{circle} < 12$

五、猜猜小动物各是几?(每题2分,共6分)

1.  15比我多7。 ()

2.  我比12少5。 ()

3.  8比我少6。 ()

六、按得数把算式的序号填在相应的方框里。(12分)

- ① $13-6$ ② $15-9$ ③ $14-9$ ④ $14-7$
 ⑤ $16-9$ ⑥ $13-8$ ⑦ $13-7$ ⑧ $12-6$
 ⑨ $12-5$ ⑩ $11-6$ ⑪ $14-8$ ⑫ $12-7$



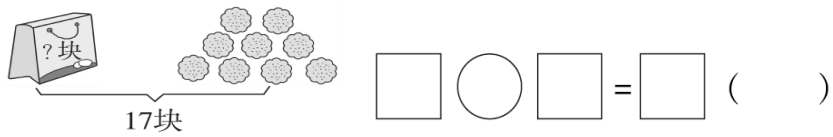
得数是 7

得数是 6

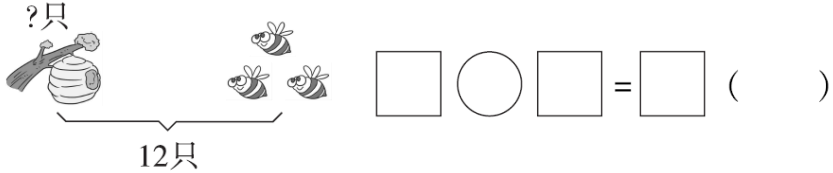
得数是 5

七、看图列式计算。(每题 3 分, 共 9 分)

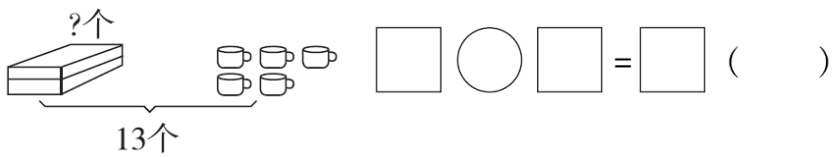
1.



2.

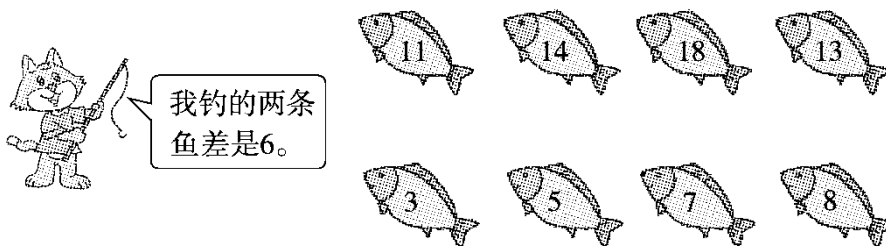


3.



八、连一连。(8 分)

小猫钓的可能是哪两条鱼?



九、完成表格。(9 分)

	原有	卖出	还剩
	12 台	5 台	() 台
	() 辆	9 辆	9 辆
	15 块	() 块	8 块

十、解决问题。(4 题 15 分，其余每题 3 分，共 24 分)

1. 房子里原来有11只小猪，跑出来3只小猪，还剩下几只小猪？



$$\square \bigcirc \square = \square \quad (\quad)$$

2. 一共有 12 人。游泳池边上有多少人？



3. 小明：我们两个一共捡了13片树叶，其中有7片绿叶。



小明捡了几片树叶？

$$\square \bigcirc \square = \square \quad (\quad)$$

4.



(1)小雪比小芳多买了多少瓶?

$$\square \bigcirc \square = \square \quad (\quad)$$

(2)小丽比小雪少买了多少瓶?

$$\square \bigcirc \square = \square \quad (\quad)$$

(3)请你提出一个数学问题并解答。

$$\square \bigcirc \square = \square \quad (\quad)$$



扫码看答案 2379