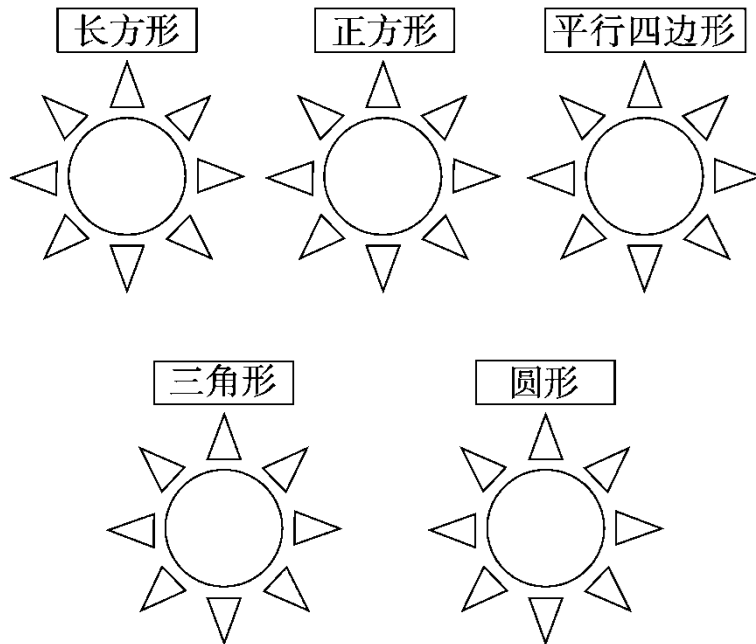
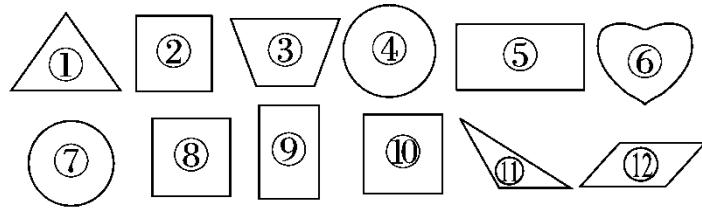


人教版数学一年级下册第一单元过关检测卷

一、把图形送回合适的“太阳花”里。(填序号)(12分)



二、填一填。(每空 2 分，共 20 分)

1. 至少用( )个相同的长方形可以拼成一个大的长方形。
2. 是由 2 个相同的( )形拼成的 1 个( )形。
3. 用 2 个 可以拼成一个( )形，也可以拼成一个( )形。
4. 至少用( )个相同的正方形可以拼成一个大的正方形。
5. 一个正方形可以剪成两个相同的( )形或( )形。
6. 把一张正方形纸，沿虚线对折，对折后的图形是( )形，  
像这样大小的图形有( )个。

三、辨一辨。(对的画“√”，错的画“×”)(每题 2 分，共 6 分)

1.



一个正方形可以分成4个完全一样的三角形。

( )

2.



右图中一共有2个长方形。



( )

3.



用两个一样的三角形可以拼成一个平行四边形。

( )

四、选一选。(把正确答案的字母填在括号里)(每题 2 分, 共 10 分)



1. 用 不能画出的图形是( )。

- A. 圆形
- B. 长方形
- C. 三角形

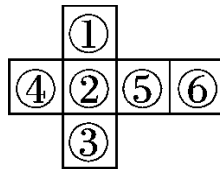
2. 把一个正方形纸对折, 不能折出的图形是( )。

- A. 长方形
- B. 正方形
- C. 圆形


3. 七巧板中共有( )种不同的图形。

- A. 7
- B. 5
- C. 3

4. 把下图折成正方体, ②号的对面是( )。

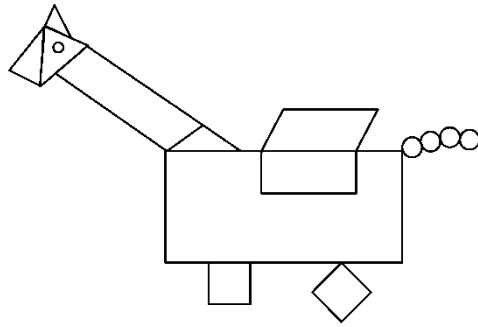


- A. ④
- B. ⑤
- C. ⑥

5. 至少( )根这样的小棒 , 可以拼成一个长方形。

- A. 4
- B. 6
- C. 8

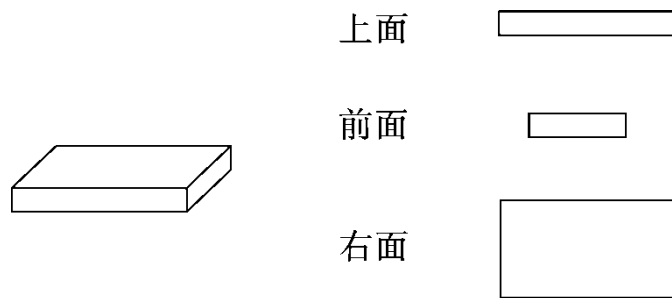
五、数一数, 填一填。(每空 2 分, 共 10 分)



□ ( ) 个      ○ ( ) 个  
 ▭ ( ) 个      ▱ ( ) 个  
 △ ( ) 个


六、动手操作。(1 题 6 分, 4 题 8 分, 其余每题 4 分, 共 22 分)

1. 右边的图形是长方体的哪个面? 用线连起来。

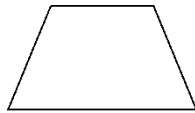


2. 剪一剪。(在图中用虚线画出来)

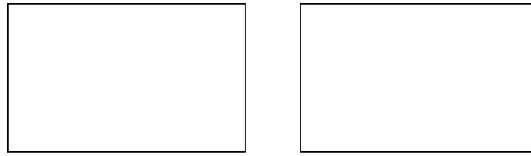
(1) 剪三刀, 把下图剪成四个大小一样的小正方形。



(2) 剪一刀, 把下图剪成一个三角形和一个平行四边形。

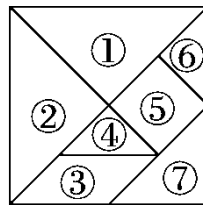


3. 画一画, 把每个长方形分成大小相等的四块。

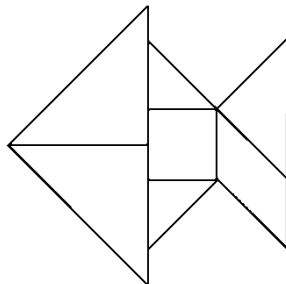


4. 圈一圈。(把能画出左边图形的物体圈出来)

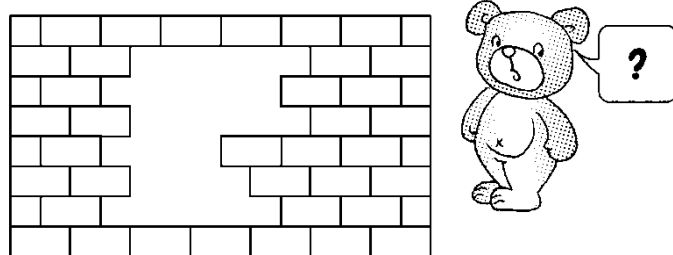

七、趣味七巧板。(14分)



下面是我用七巧板拼出来的图形，你知道用了哪几块七巧板吗？你能把每块的序号在图中标出来吗？试试看！



八、小熊补墙，画一画，数一数，填一填。(6分)



缺了( )块砖。



扫码看答案：2375