

一年级上册数学分层训练 A 卷-第八单元 20 以内的进位加法

(满分：100 分，完成时间：60 分钟)

一、选择题 (满分 16 分)

1. 与 $6+5$ 结果相等的算式是 ()。

A. $2+9$

B. $4+8$

C. $6+7$

2. 可以用算式“ $4+7$ ”解决的是第 () 个问题。

A. 7 本书，看过了 4 本，还有几本没看？

B. 7 本故事书，4 本漫画书，一共有几本书？

C. 9 本故事书，4 本漫画书，再买几本漫画书就和故事书同样多了？

3. $9+7$ 等于 ()。

A. 16

B. 15

C. 12

4. 小强家上面有 3 层，下面有 8 层，这栋楼一共有 () 层。

A. 11

B. 12

C. 13

5. 第一小组有男生 7 人，女生 5 人。这些学生要乘坐一辆汽车去动物园，你认为他们乘坐下面 () 辆车最合适。

A. 5 座



B. 13 座




C. 18 座



6. 丹丹有两盒蜡笔，一共有 12 支，下面 () 号不是她的。

A.



B.



C.



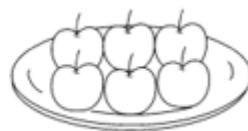
7. 小明前面有 7 人，后面有 3 人。他们这一队一共有 () 人。

A. 9

B. 10

C. 11

8. 从下面 3 盘苹果中任选 2 盘带回家，最多能带走 () 个。



A . 13

B . 14

C . 15

二、填空题 (满分 16 分)

9 . 一根 20 米的彩带, “六一”节包礼物, 第一次用去 6 米, 第二次用去 9 米, 这根彩带短了()米。

10 . 小小今年 5 岁, 姐姐说: “当你长到 10 岁的时候, 我正好是 18 岁。”姐姐今年()岁。

11 . $4+8=()$ $9+()=14$

$8+()=11$ $7>()$

12 . 比 9 多 7 的数是(); 比 9 少 1 的数是()。

13 . 被减数是 12, 减数是 2, 差是(); 两个加数都是 9, 和是()。

14 . 一个十和 5 个一合起来是(); 18 里面有()个一和()个十。

8 和 5 的和是(), 差是()。

15 . 同学们站成一排做游戏, 小丽左边有 5 个人, 右边有 6 个人, 这一排一共有()个人。

16 . 一个加数是 8, 另一个加数是 6, 和是()。

三、判断题 (满分 8 分)

17 . $9+4=13$ 读作: 9 加 4 等于 13。()

18 . 停车场先开走 7 辆汽车, 又开走 9 辆, 一共开走了 16 辆汽车。()

19 . $3+8$ 与 $16-5$ 结果一样。()

20 . 计算 $8+9$ 时, 可以先把 8 凑成 10, 也可以先把 9 凑成 10。()

四、口算题 (满分 12 分)

21 . (12 分)想一想, 怎样才能算得更快。

$9+5=$ $6+5=$ $9+3=$ $7+5=$

$5+9=$ $5+6=$ $3+9=$ $5+7=$

$8+5=$ $7+4=$ $9+2=$ $8+4=$

$5+8=$ $4+7=$ $2+9=$ $4+8=$

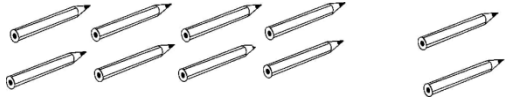
五、看图列式计算 (满分 12 分)

22 . (6 分)一共有多少朵花?



$$\square \bigcirc \square = \square \text{ (朵)}$$

23. (6分) 看图写算式。



$$\square + \square = \square$$

六、连线题 (满分 6 分)

24. (6分) 投篮。(连一连)



七、作图题 (满分 6 分)

25. (6分) 画△比☆多 3 个。



八、解答题 (满分 24 分)

26. (6分) 两人一共栽了多少棵树?



我栽了9棵树。

我栽的树和你同样多。




27. (6分)小宇和爸爸去钓鱼, 下面的3个鱼篓里有2个是他和爸爸钓到的。他和爸爸最多钓到几条鱼?



$$\square \bigcirc \square = \square \text{ (条)}$$

28. (6分)一共拔了多少个萝卜?



$$\square \bigcirc \square = \square \text{ (个)}$$

29. (6分)一盒藏鸡蛋有6个, 3盒藏鸡蛋一共有多少个?



口答: 3盒藏鸡蛋一共有 () 个。



扫码看答案: 2372