




一年级上册数学分层训练 A 卷-第七单元认识钟表

(满分: 100 分, 完成时间: 60 分钟)

一、选择题 (满分 16 分)

1. 我们每天都应养成早睡早起的好习惯, 你觉得我们晚上几时睡觉比较好? ()。



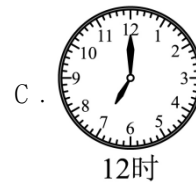
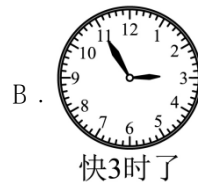
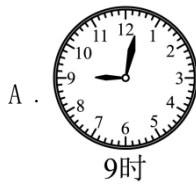
2. 钟面上的时针和分针成一条线的整时是 ()。

A. 3 时

B. 6 时

C. 12 时

3. 下面时间表述正确的一项是 ()。



4. 钟表上显示 12 时, 此时钟表的时针指向了 12, 分针指向 ()。

A. 11

B. 12

C. 1

5. 小明吃晚饭的时间是 ()。



A. 12 时

B. 6 时

C. 8 时

6. 小美生病了, 医生刚刚给她测了体温并嘱咐她 1 小时后再测一次体温, 她下次测体温是在 ()。



- A . 8 时半 B . 9 时半 C . 10 时半

7 . 我 8 时整睡觉， 妈妈比我晚睡 1 小时。妈妈睡觉的时间是 () 。

- A . 9 时 B . 10 时 C . 11 时

8 . 钟面上时针走一圈是 () 。

- A . 12 时 B . 60 分 C . 12 分

二、填空题 (满分 16 分)

9 . 再过 1 小时是几时?



- () 时 () 时 () 时

10 . 时针指向 3， 分针指向 12， 是 () 时。

11 . 时针和分针都指向 12， 是 () 时。

12 . 用两种方法表示钟面上的时间。




- () ()

13 . 7 时再过 1 小时是 () 时。

14 . 认一认。

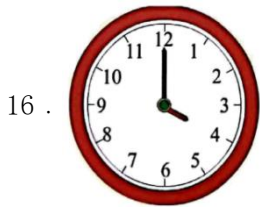


()时 快()时了 ()时刚过 再过1时是()时



钟面上显示的时间是()。妈妈让小刚过1小时给她打电话，小刚打


电话的时间是()。



钟面上的时间是()。

三、判断题 (满分8分)

17. 时针走一大格是1时，同时分针就走了一圈。()



钟面上表示的时间是7时。()

19. 6时整，时针指向12，分针指向6。()

20. 我晚上睡觉的时间如图所示，妈妈比我晚睡1小时，妈妈睡觉的时间是晚上10时。

()



四、连线题 (满分18分)

21. (6分)连一连。



6:00



8:30



快4时了



刚过11时

22. (6分)我会连。



10:00




9时过一点儿




快2时了


23. (6分)连一连。



6:00



5:00



8:00



3:00

五、作图题 (满分 18 分)

24. (6分)按下面的时间在钟面上画出时针和分针。



2时



5时



9时

25. (6分) 画出如图所示的钟面上所缺的时针或分针。



9:00



6时

26. (6分) 观察钟面上的时针和分针的变化, 你能画出最后一个钟面上的时针和分针吗?



六、解答题 (满分 24 分)

27. (6分) 先连线, 再填空。



10时



9时刚过



3:00

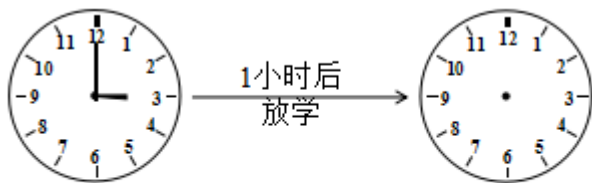


快2时了

(1) 表示 3 时的钟面是从左数第 () 个。

(2) 表示快 2 时的钟面是从 () 数的第 () 个。

28. (6分)



()

放学时间是 ()
在钟面上画一画

29. (6分) 圈出正确的答案.



快 10 时了

10 时刚过



快 5 时了

5 时刚过



快 1 时了

1 时刚过

30. (6分) 小牛今天请客, 小马、小羊、小猪谁先到的?



小马



小羊



小猪



扫码看答案: 2360