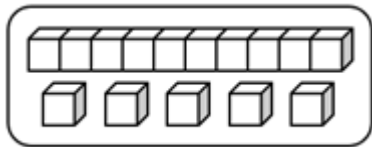

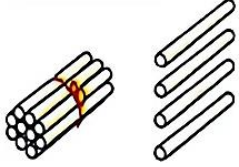


个位上的 1 表示 1 个(), 十位上的 1 表示 1 个()。

11. 15 里面有()个十和()个一。



12.  ()个草莓。

 ()根小棒。

13. 找规律填数。

18, 16, 14, (), 10, (), 6。

14. 一个两位数的个位上是 2, 十位上比个位上少 1, 这个数是()。

15. 12 和 16 这两个数相比, ()更接近 15。

16. 17 前面与其相邻的数是(), 后面与其相邻的数是()。

三、判断题 (满分 8 分)

17. 由 2 个十组成的数是 20。()

18. 从 9 数到 19, 一共数了 10 个数。()

19. 十八写作 18。()

20. 3 个一是 13。()

四、口算题 (满分 12 分)

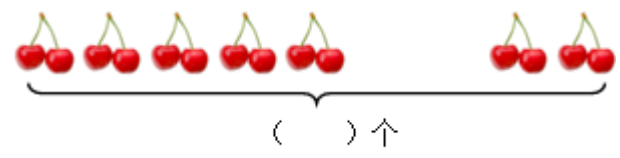
21. (12 分)直接写得数。

2 + 3 = 4 + 4 = 2 + 6 = 6 + 1 =

$1 + 8 =$ $6 + 3 =$ $0 + 8 =$ $12 + 5 =$
 $4 - 2 =$ $7 - 4 =$ $8 - 5 =$ $9 - 6 =$

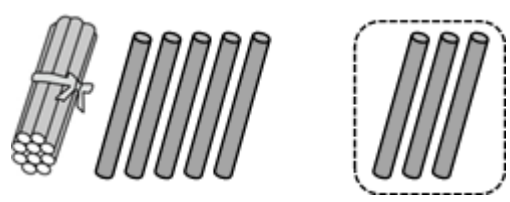
五、看图列式计算（满分 12 分）

22. (6 分) 看图填算式。



○ = (个)


23. (6 分) 看图写算式。



+ =

六、连线题（满分 12 分）

24. (6 分) 小猫爱吃鱼。



25. (6 分) 猜猜我是谁?

比 15 少 1 的数 10 个一和 1 个十组成 17 比我多 5 个位和十位数字都是 1



七、作图题 (满分 6 分)

26. (6 分) 用你喜欢的图形表示下面的数。



12



20

八、解答题 (满分 18 分)

27. (6 分) 还需要种多少棵树才能完成任务?



$$\square \bigcirc \square = \square \text{ (棵)}$$

28. (6 分) 两只小猫一共钓了多少条鱼?



$$\square \bigcirc \square = \square \text{ (条)}$$

29. (6 分) 大树上有一群小鸟, 先飞走了 6 只, 又飞走了 12 只, 一共飞走了多少只?

$$\square \bigcirc \square = \square \text{ (只)}$$



扫码看答案: 2354