

一年级上册数学分层训练 A 卷-第三单元 1—5 的认识和加减法

(满分：100 分，完成时间：60 分钟)

一、选择题 (满分 16 分)

1. 一个物体都没有用 () 表示。

A . 0

B . 1

C . 10

2.  的正确列式是 () 。

A . $3 + 2 = 5$

B . $3 - 2 = 1$

C . $5 - 2 = 3$

3. 有 5 个  和两个相同的 ，将草莓放入盘子有 () 种放法。

A . 3

B . 4

C . 5

4. 妈妈买了 5 支冰淇淋，被爸爸吃掉 2 支，请问还剩下几支冰淇淋呢？请你选一选吧。

()



A . 2

B . 3

C . 4

D . 5

5. 比 3 多 () 的数是 5。

A . 1

B . 2

C . 4

D . 3

6. 看图列式计算，正确的是 () 。



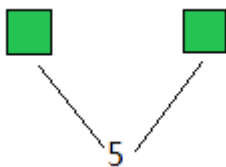
A . $4 + 0 = 4$

B . $4 - 4 = 0$

C . $4 - 0 = 4$

D . $0 + 4 = 4$

7. 如图，方框中可填写的数字为那组_____



A . 2、4

B . 4、1

C . 2、3

D . 1、4

8. 大熊猫的后面有 () 只小动物。



A . 2

B . 3

C . 4

二、填空题 (满分 16 分)


9. 有 () 只蝴蝶。

10. 有 () 个苹果。

11. 数一数, 填一填。

有 () 只, 有 () 只, () < ()。

12. 数一数, 填一填。



第 () 节 第 () 节 第 () 节 第 () 节 第 () 节

13. 5 能分成 () 和 () 或 () 和 () 任意写两种。

14. 4 能分成 () 和 () , 或 () 和 () 。

15. 今天是星期二, 再过 3 天就是小华的生日, 小华的生日是星期 () 。

16. 画 , 要比 少 3 个。



三、判断题 (满分 8 分)

17. 0 表示一个也没有。()

18. $0+1=0$ 。()

19. $3+2=5$ 读作: 3 加 2 等于 5。()

20. 如图, 从右边起涂 4 个。()



四、口算题 (满分 12 分)

21. (12 分) 看谁算得又对又快。


$5-4=$ $2-0=$ $0+5=$ $4-2=$

$5-3=$ $4-3=$ $0+3=$ $2+3=$

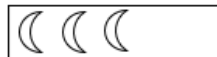
$3+1=$ $1+4=$ $3+0=$ $4+1=$

五、连线题 (满分 12 分)

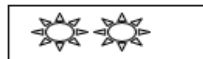
22. (6 分) 连一连。



4



2



3



5

23. (6 分) 连线。

$2+1$	2	$5-5$	1
$4+1$	4	$5-3$	2
$2+0$	3	$5-4$	0
$5-1$	5	$4-0$	4

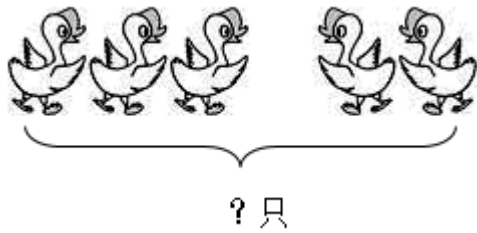
六、解答题 (满分 36 分)

24. (6 分) 企鹅手里还剩多少个气球?



\bigcirc $=$ (个)

25. (6分) 先把 补充完整, 再列式计算。



原来有 只鸭子, 又来了 只鸭子。一共有几只鸭子?

$$\square \bigcirc \square = \square \text{ (只)}$$

26. (6分)



左边有()只羊,
右边有()只羊,
一共有多少只羊?

$$\square \bigcirc \square = \square \text{ (只)}$$

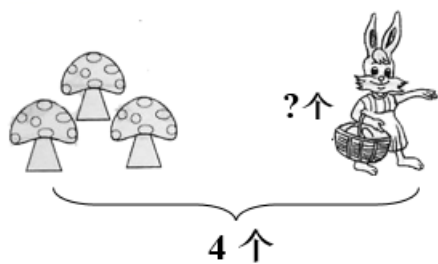
口答: 一共有 () 只羊。

27. (6分) 一共多少个?




$$\square \bigcirc \square = \square \text{ (个)}$$

28. (6分) 小白兔篮子里有多少个蘑菇?



$$\square \circ \square = \square \text{ (个)}$$

29. (6分) 苹果比菠萝多多少个?



$$\square \circ \square = \square$$



扫码看答案: 2319