

一年级上册数学分层训练 A 卷-第二单元位置

(满分：100 分，完成时间：60 分钟)

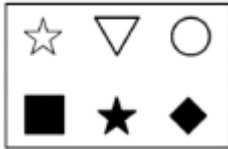
一、选择题 (满分 16 分)

1. 小牛家的楼下是 () 家。



A. 小猫 B. 小老虎 C. 小猴

2. 下图中，○的左边是 ()，■的上面是 ()。




A. ☆; ◆ B. ◆; ▽ C. ▽; ☆

3.  在  的 () 面。



A. 上 B. 左 C. 右

4. 看下面的图， 的左面是哪种水果？ ()



A.  B.  C. 

5. 下图中，小兰的后面是 ()。



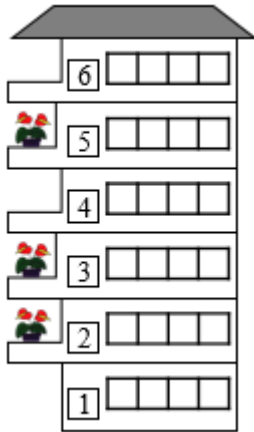
A . 小强 B . 小东 C . 小丽

6 . 飞机在轮船的上面，鱼在轮船的下面，飞机在鱼的（ ）面。

A . 上 B . 下 C . 左

7 . 猜猜看

玲玲、桐桐、宁宁家的阳台上都摆着花 . 玲玲住在桐桐楼下，桐桐住在宁宁楼下 . 玲玲家住在第（ ）层 .



A . 1 B . 2 C . 3 D . 4 E . 5 F . 6

8 . 小明住在小刚楼上，小强住在小刚楼下。三人中（ ）住在最下面。



A . 小明 B . 小刚 C . 小强

二、填空题（满分 18 分）



9. (5分)

(1)上图中一共有()种物品。

(2)  的()面是  ,  的()面是  。

(3)  的()边是  ,  的()边是  。

售票处



10. (3分)



(1)红红在明明的前面, 红红在英英的()面。

(2)宁宁在玲玲的()面; 英英在红红的()面。

11. (1分) 数学课前, 同学们把数学书整齐地放在课桌的()面。(填“上”或“下”。)

12. (5分) 看图, 用“上”或“下”填空。



 在  的()面;


 在  的()面;



13. 填“上、下、左、右”。



14. 小鸟在猴子的()面; 小猫在小鸟的()面。




三、判断题 (满分 8 分)

15. 上下楼梯靠右行, 少先队员敬礼应该用左手。()

16.  的左边是 。()



17.  妈妈用右手拿筷子吃东西。()

18. 我们敬礼时用左手。()

四、连线题 (满分 24 分)

19. (6 分) 我会简单的推理。(连一连)

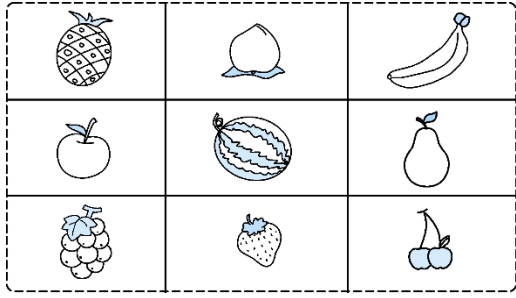
20. (6 分) 想一想, 连一连。

在 的 左面
 在 的 上面
 在 的 右面

21. (6 分) 把小动物们送回家, 连一连。

我家在小猫家的左边。
 我家的右边是熊猫家。
 我家在最右边。
 我家在小猴家的左边。

22. (6 分) 把形状相同的物体用线连起来。




的右边是




的下面是



的左边是







的上面是











五、作图题 (满分 24 分)

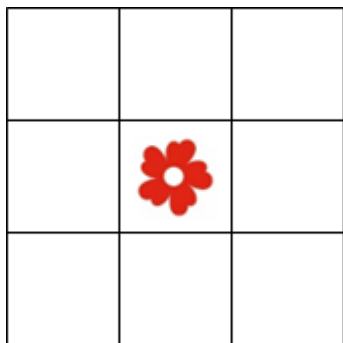
23. (6分) 按要求画一画。

(1) 在  上面画一张 ，下面画一颗 ，左边画一面 ，右面画一个

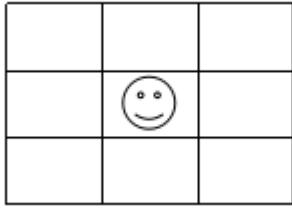


(2)  在  的左边， 在  的下面。

(3)  在  和  的右边， 在  和  的左边。



24. (6分) 按要求画图形。



在☺的左边画△，在☺的上边画□，在□的右边画○，在△的下边画♥。

25. (6分) 按要求画一画，在🍎的右面画一只🍌；在🍎的左面画一只🍈。

26. (6分) 圈一圈。



☺ 在 🌳 的 (上 下) 面, 🦘 在 🐍 的 (前 后) 面,


🐘 在 🌳 的 (左 右) 边, 🦌 在 🌳 的 (左 右) 边.

六、解答题 (满分 10 分)

27. (5分) 按要求把水果放在相应的柜子里, 每层放一种。

🍎 放在最下面, 第二层放的是 🍍, 🍍 它的上面是 🍑, 第三层放的是 🍈

28 . (5分)



(1)  在  的 () 面。

(2)  在  的 () 面。

(3) 在  的下面画一个  。



扫码看答案：2295