


一年级上册数学 A 卷-第一单元

(满分：100 分，完成时间：60 分钟)

一、选择题 (满分 16 分)

1. 下面几堆物品中, () 堆的数量和它的不一样多。





2. 数一数, 哪些图形是同样多的? ()



A. 和

B. 和

3. 下面哪个图的个数与 的个数同样多? ()



4. 图中有几辆车? ()



A. 1 辆

B. 2 辆

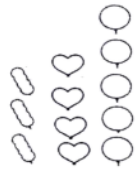
C. 3 辆

D. 4 辆


5. 数一数, 和 同样多的选项是 () .



6. 如图, 数一数, () 图形最多。



A. 

B. 


C. 

7. 哪一行与其他两行不相同? ()



A. 第一行与其他两行不同 B. 第二行与其他两行不同 C. 第三行与其他两行不同

8. 小鸡和小兔谁多谁少? ()



A. 小鸡比小兔多

B. 一样多

C. 小兔比小鸡多

二、填空题 (满分 16 分)

9. 一共有()个小朋友。




10. 数一数, 下面的动物各有几只脚?



有()只 有()只 有()只

11. 数一数, 每个盘子里有几个苹果? (从左到右填写)

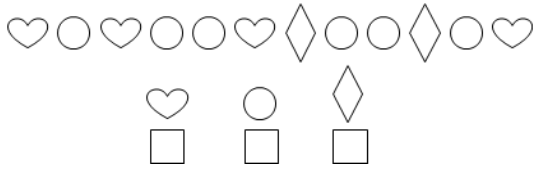


12. 一些手套，这是几个小朋友的？你来猜一猜。

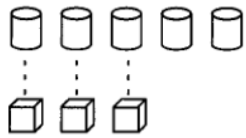


是()个小朋友的手套。

13. 在最多的下面画“√”，最少的下面画“×”。



14. 比一比，填一填。(选填“多”或“少”)



圆柱比立方()。

☆比⊗()。





15. 画○，和★同样多。

★★★★★★()。

16. 数一数，有____只青蛙。



三、判断题 (满分 8 分)

17.   左图中， 比  多。()

18. 




 和  同样多。()



图中共有 4 只小鸭子。()

20. 图中有 5 个小动物, 1 朵小花。()



四、连线题 (满分 24 分)

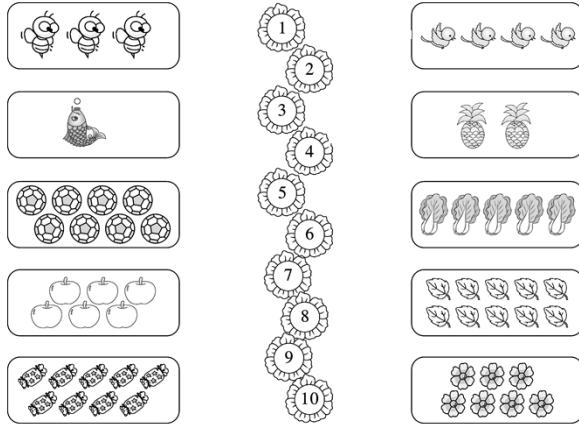
21. (6 分) 给小动物找帽子。



22. (6 分) 连一连。



23. (6 分) 数一数, 连一连。




24. (6分) 把同样多的用线连起来。



五、作图题 (满分 16 分)

25. (6分) 画△与■同样多。



26. (6分) 画△, △比  多。



27. (6分) 圈一圈。

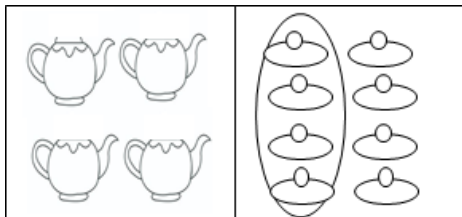
4


7

9





28. (6分) 照样子, 把每组图中与左边同样多的部分圈起来。



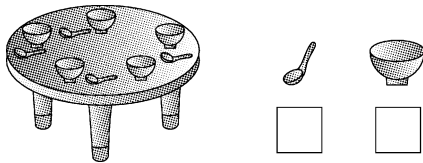


扫码看答案：2278



六、解答题（满分 12 分）

29. (6 分) 在数量多的物体下面画“√”。



怎么比较勺子和碗的数量？请你把你的想法写下来。

30. (6 分) 按气球的种类分一分，再涂一涂，填一填。

| | |
|------------------------|-------|
| | |
| | <hr/> |
| | |
| () 个, () 个, () 个。 | |