

数学一年级上册期末测试卷（二）

一、选择题（共 10 题；共 20 分）

1. (2 分) 姐姐做了 15 面小红旗，送给弟弟 10 面，姐姐还剩 () 面。

- A. 10 B. 5 C. 25 D. 15

2. (2 分) 和 16 相邻的两个数是 ()。


- A. 14、15 B. 15、17 C. 17、18




3. (2 分) 钟面上，时针和分针重合的时候是 () 时整。

- A. 1 B. 11 C. 12

4. (2 分) $11 - 6 + 7 = ()$

- A. 12 B. 8 C. 9 D. 11

5. (2 分) 利用 () 可以画出 。

- A.  B.  C. 

6. (2 分) 美术教室原来有 5 个同学在打扫卫生，后来又有 9 个同学一起来帮忙。美术教室现在有 _____ 个同学在打扫卫生。()

- A. 15 B. 14 C. 13 D. 12


7. (2 分) 最小的两位数是 ()。

- A. 20 B. 11 C. 10

8. (2 分) \triangle 在 \square 的右边的是 ()。

- A. $\triangle\square$ B. $\square\triangle$ C.  D. 

9. (2 分) 小狗在小老鼠的 () 面。



A. 上

B. 下

C. 前

D. 后

10. (2分) 看看那个小猴子手里的钥匙，可以打开门 ()



二、判断题 (共 5 题; 共 10 分)

11. (2分) 小猫吃了 7 条鱼, 盘子里还剩下 6 条鱼, 它一共钓了 13 条鱼。 ()

12. (2分) 在下面的钟表上, 所表示的时间是大约 12 时。 ()



13. (2分) 17 前面的数是 18, 后面的数是 16。 ()

14. (2分) 在搭积木时, 球搭起来比正方体要稳的多。 ()

15. (2分) 计算 $8+9$ 时, 可以先把 8 凑成 10, 也可以先把 9 凑成 10。 ()

三、填空题 (共 8 题; 共 34 分)

16. (1分) 我家在 8 号门的左边, 请帮我找一找。我家是_____号门。



17. (8分) 在 () 里填上“>” “<”或“=”。

11-8 () 4 13-8 () 6 15-7 () 9 14-9 () 5

12-7 () 4 5+9 () 13 15-9 () 18-9 7+6 () 7-6

18. (8分) $9+8=$ _____，和是_____位数，十位上是_____，表示_____个_____；个位上是_____，表示_____个_____。

19. (3分) 一个东西也没有我们说是_____个，0 加任何数都得_____，任何数减去0得_____。

20. (2分) 下图大约是_____时，还可以说成_____时。

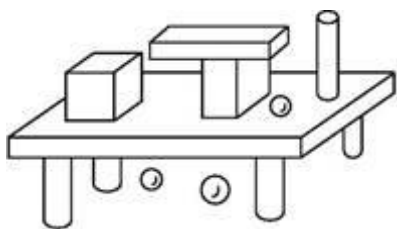


21. (2分) 11 里面有_____个十和_____个一。

22. (3分) 体育场的上一站是_____，体育场的下一站是_____，从体育场到展览馆还要乘_____站。



23. (7分) 我会数，我会填



(1) 正方体有_____个，长方体有_____个，圆柱有_____个，球有_____个。

(2) 球比圆柱少_____个。

(3) 长方体比正方体多_____个，比圆柱少_____个。

四、计算题（共 1 题；共 12 分）

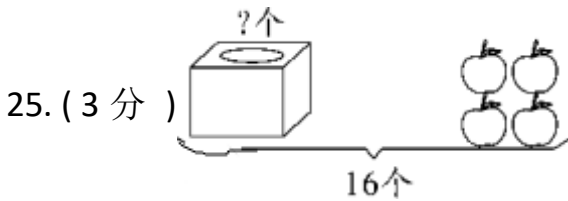
24. (12 分) 口算下面各题。

$3+8=$ $2+9=$ $5+7=$ $4+9=$

$8+8=$ $3+9=$ $6+6=$ $4+7=$

$5+8=$ $8+7=$ $6+7=$ $4+8=$

五、看图列算式（共 2 题；共 6 分）



六、解答题（共 4 题；共 18 分）

27. (4 分) 从 5, 7, 9, 14 四个数中选出三个，写出四道算式。

$\square \bigcirc \square = \square$ $\square \bigcirc \square = \square$

$\square \bigcirc \square = \square$ $\square \bigcirc \square = \square$

28. (4分) 小青要练习写 16 个毛笔字, 还剩下 6 个字没有写, 他已经写了几个字?

29. (5分) 9 个男生和 6 个女生坐在一起吃饭, 现存桌子上有 8 个碗, 每人 1 个, 还差几个碗?

30. (5分) 树上第一次飞走了 8 只小鸟, 第二次飞走了 5 只。两次一共飞走了多少只小鸟?



扫码看答案: 1770