

数学一年级上册期末测试卷（一）

一、填空题（共 8 题；共 25 分）

1. (2 分) 教室里，讲桌在我的_____面，我用_____手写字。

2. (10 分) 在横线里填上“+”或“-”。

4 _____ 9 = 13 5 _____ 5 = 0 7 _____ 0 = 7 10 _____ 5 = 5

9 _____ 4 = 5 9 = 10 _____ 1 7 _____ 5 = 3 _____

_____ 1 7 _____ 1 = 4 _____ 2

3. (3 分) 17 里面有 _____ 个十和 _____ 个一。

由 2 个一和 1 个十组成的数是 _____。


4. (4 分) 小冬有 15 元钱，正好可以买 _____ 和 _____，还可以买 _____

和 _____。（填序号）



5. (1 分) 在新一届少儿电视节目主持人大赛中，一（1）班同学给月亮姐姐投了 9 票，给绿泡泡投了 3 票，一（1）班同学给这两位主持人共投了 _____ 票。

6. (2 分) 看图填空



比 多 _____ 只。


比 少 _____ 只。

7. (1分) 明明读一本书, 从第3页读到第9页, 一共读了_____页。

8. (2分) 观察下图, 最后一个钟面的时针应该指向_____, 分针应该指向_____。



二、判断题 (共5题; 共10分)

9. (2分)  是一个圆柱。 ()

10. (2分) “11”中的两个1表示的意义是一样的。 ()

11. (2分) 在下面的钟表上, 所表示的时间是大约12时。 ()



12. (2分) 小猫吃了7条鱼, 盘子里还剩下6条鱼, 它一共钓了13条鱼。 ()

13. (2分) 计算 $8+9$ 时, 可以先把8凑成10, 也可以先把9凑成10。 ()

三、选一选 (共10题; 共22分)

14. (2分) 个位上是6, 十位上是1的数是 ()。

A. 61

B. 16

C. 7

15. (2分) 哪道算式结果最大? ()

A. $4+5$

B. $5+7$

C. $5+9$

16. (2分) $12+1-7=$ ()

A. 0

B. 6

C. 8

D. 20

17. (3分) 如图, 蝴蝶在花朵的 () 面。




- A. 上 B. 下 C. 左 D. 右

18. (3分) 小朋友，我家在8号门的左边，请帮我找一找，应是（ ）号门。



- A. 7 B. 9

19. (2分) 拼成一个大正方体至少需要（ ）个 .

- A. 2 B. 4 C. 6 D. 8

20. (2分) 钟面上，时针和分针重合的时候是（ ）时整。

- A. 1 B. 11 C. 12

21. (2分) 小兰给8张邮票给小明，两人的邮票就同样多，小兰原来比小明多（ ）张邮票。

- A. 8 B. 4 C. 16

22. (2分) 算式 $\square+3=7$ ， \square 里应该填（ ）。

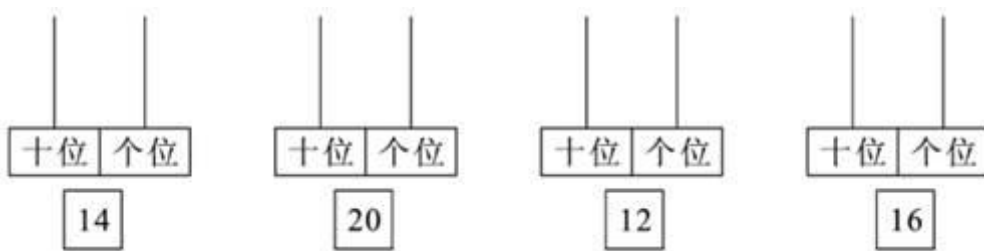
- A. 2 B. 3 C. 4

23. (2分) 10个小朋友排成一排，从前往后数，小明排第8个，从后往前数，小明排第几个？

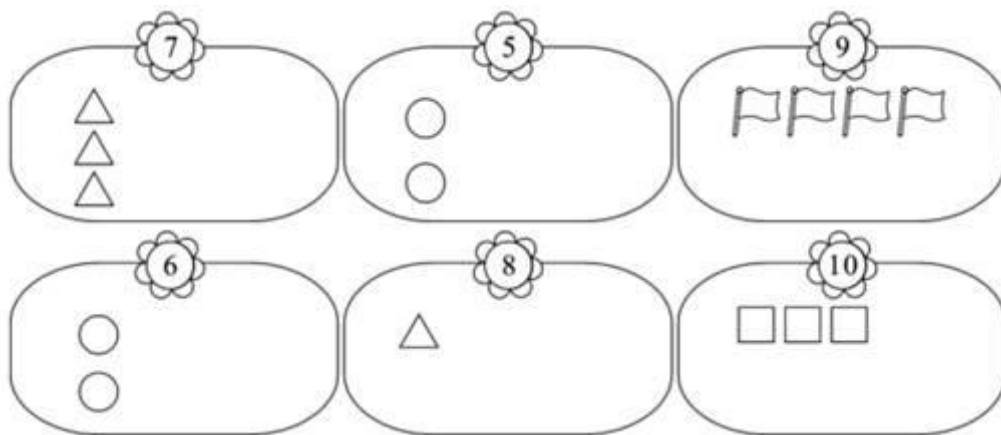
- A. 第2个 B. 第3个 C. 第4个

四、按要求做题（共3题；共14分）

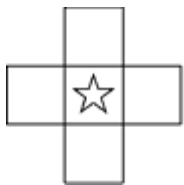
24. (4分) 看数画珠子



25. (6分) 看数补画出缺少的图形。



26. (4分) 在☆的左边画☀，右边画☾，上边画└，下边画⊕。



五、计算题 (共1题; 共6分)

27. (6分) 口算下面各题。

$3+8=$ $2+9=$ $5+7=$ $4+9=$

$8+8=$ $3+9=$ $6+6=$ $4+7=$

$5+8=$ $8+7=$ $6+7=$ $4+8=$

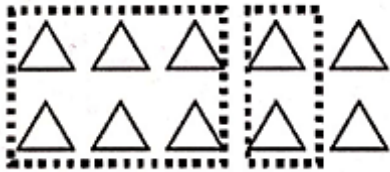
六、看图列式计算 (共2题; 共8分)



28. (4分)

? 条

$$\square \bigcirc \square = \square \text{ (条)}$$




29. (4分)

$$\square \bigcirc \square \bigcirc \square = \square$$

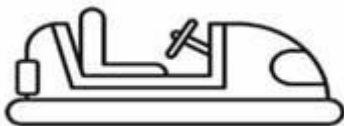
七、解答题 (共 3 题; 共 15 分)

30. (5分) 下图中, 每人拿走一把 , 还剩几把?



$$\square \bigcirc \square = \square \text{ (把)}$$


31. (5分) 淘气和笑笑一起去玩碰碰车, 每张票 9 元, 一共需要多少元钱?



$$\square \bigcirc \square = \square \text{ (元)}$$

32. (5分) 一共有多少只大雁?

我后面有2个伙伴,前面有5个伙伴。



$$\square \bigcirc \square \bigcirc \square = \square \text{ (只)}$$



扫码看答案: 1758